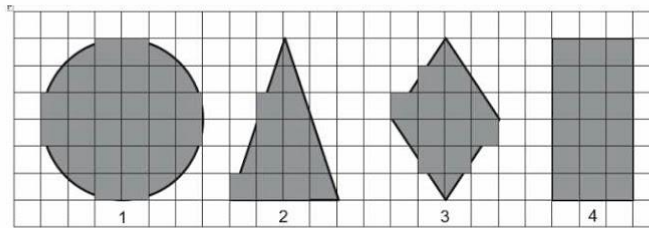


**Questão 02**

Observe as figuras geométricas desenhadas na malha quadriculada abaixo



Qual dessas figuras é um losango?

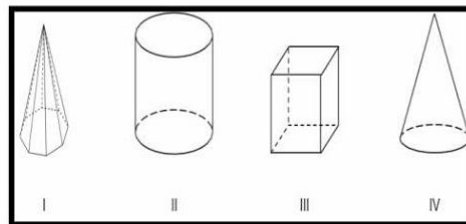
- A) 1      B) 2      C) 3      D) 4

**Questão 03**

Observe os sólidos geométricos desenhados abaixo.

Quais desses sólidos são corpos redondos?

- A) I e II.  
B) I e III.  
C) II e III.  
D) II e IV.



**Questão 04**

a- Qual é o número referente a seguinte decomposição: cinco centenas de milhar, sete dezenas de milhar, uma unidade de milhar, oito centenas, duas dezenas e três unidades.

R: \_\_\_\_\_

b) Qual a forma geométrica tridimensional que possui quatro faces laterais triangulares?

R: \_\_\_\_\_

c) No carnaval, um baile de carnaval começou as 20:00h com 195 pessoas, as 23:00 saíram 62 pessoas e as 02:00h entraram mais 28 pessoas. Quantas pessoas estavam no início do baile?

R: \_\_\_\_\_

d) Fabrício foi ao mercado e comprou 2 gelatinas por R\$ 1,15 cada, dois salgadinhos por R\$ 2,80 cada e dois chocolates por R\$ 3,50 cada. Ele levou uma nota de R\$ 20,00, quanto ele receberá de troco?

R: \_\_\_\_\_

"A Educação é o melhor caminho para construir um futuro melhor"

5° ANO



NOME: \_\_\_\_\_

PROFESSOR (A): \_\_\_\_\_

### Língua Inglesa

Complete com **am, is** ou **are**.

- a) Franklin \_\_\_\_ my brother.
- b) Dylan \_\_\_\_ my father.
- c) Lisa \_\_\_\_ intelligent.
- d) My mother \_\_\_\_ happy.
- e) It \_\_\_\_ big.
- f) Bob and Anne \_\_\_\_ my friends.
- g) Jimmy and Hilary \_\_\_\_ my parents.
- h) I \_\_\_\_ happy.
- i) I \_\_\_\_ intelligent.
- j) I \_\_\_\_ Prince.
- k) My family \_\_\_\_ very happy.
- l) My friends \_\_\_\_ young.
- m) Jim and Hellen \_\_\_\_ brothers.
- n) My parents \_\_\_\_ good.

Complete com **is, am** ou **are**:

I \_\_\_\_  
You \_\_\_\_  
He \_\_\_\_  
She \_\_\_\_  
It \_\_\_\_  
We \_\_\_\_  
You \_\_\_\_  
They \_\_\_\_

3-Escreva o pronome pessoal (personal pronouns) correto: **I, you, he, she, it, we, they.**

- a. Peter = \_\_\_\_
- b. The dog = \_\_\_\_
- c. Suellen = \_\_\_\_
- d. Frank and Maggy = \_\_\_\_
- e. Lucy = \_\_\_\_
- f. Laura = \_\_\_\_
- g. The cat = \_\_\_\_
- h. Lucy and I = \_\_\_\_
- i. The books = \_\_\_\_
- j. Paul and Mile = \_\_\_\_

"A Educação é o melhor caminho para construir um futuro melhor"

5° ANO



NOME: \_\_\_\_\_

PROFESSOR (A): \_\_\_\_\_

### QUESTÃO 01

#### Pipoca

- 2 xícaras de milho de pipoca
- 1 colher de manteiga ou óleo
- Sal a gosto

Coloque a manteiga ou óleo numa panela grande e leve ao fogo forte. Junte o milho e mexa sem parar. Quando o milho começar a estourar tampe a panela e abaixe o fogo para não queimar.

OBS.: Se gostar de pipoca doce faça uma calda de açúcar em ponto de fio e jogue as pipocas que já devem estar prontas. Misture bem, esfrie e sirva. REIS, Emanuel de Carvalho. Mesa do Pimpolho. Paraná: Pimpolho, s/d.(Coleção A Turminha do Pimpolho).

Esse texto é:

- ( ) um classificado.                      ( ) uma receita.  
( ) um bilhete.                              ( ) uma notícia

### QUESTÃO 02

#### CACHORROS



Os zoólogos acreditam que o cachorro se originou de uma espécie de lobo que vivia na Ásia. Depois os cães se juntaram aos seres humanos e se espalharam por quase todo o mundo. Essa amizade começou há uns 12 mil anos, no tempo em que as pessoas precisavam caçar para se alimentar. Os cachorros perceberam que, se não atacassem os humanos, podiam ficar perto deles e comer a comida que sobrava. Já os homens descobriram que os cachorros podiam ajudar a caçar, a cuidar de rebanhos e a tomar conta da casa, além de serem ótimos companheiros.

Um colaborava com o outro e a parceria deu certo.

O assunto tratado nesse texto é a:

- ( ) relação entre homens e cães.                      ( ) profissão de zoólogo.  
( ) amizade entre os animais.                              ( ) alimentação dos cães

**QUESTÃO 03**

Gilda comprou copos descartáveis de 200 mililitros, para servir refrigerantes, em sua festa de aniversário. Quantos copos ela encherá com 1 litro de refrigerante?

- 9     5     3     7

**QUESTÃO 04**

Ana está brincando com cartões com números escritos neles.  
Veja um dos cartões que Ana pegou:

**300.071**

Nesse cartão, o número escrito é?

- três mil e setenta e um.  
 trezentos mil e setenta e um.  
 trezentos mil e setecentos e um.  
 três milhões e setenta e um.

**QUESTÃO 05**

tabela a seguir mostra o número de pessoas que fizeram uma refeição no restaurante "Cantinho do sabor":

DATA	NÚMERO DE PESSOAS
julho	226
agosto	279
setembro	325
outubro	149
novembro	193

Conforme a tabela, o total de pessoas que fizeram refeição nos meses de julho, agosto e setembro foram:

- a) 342 pessoas  
b) 730 pessoas  
c) 830 pessoas  
d) 1172 pessoas

"A Educação é o melhor caminho para construir um futuro melhor"

5° ANO



NOME: \_\_\_\_\_

PROFESSOR (A): \_\_\_\_\_

### QUESTÃO 01

Leia o texto e responda;

- 1) (P050563E4) No verso "Cri-cri pra cá" (v. 8), a palavra em destaque representa
- A) a conversa do grilo com o doutor.
  - B) a dança de amor do grilo.
  - C) o choro de tristeza do grilo.
  - D) o som feito pelo grilo.
- 2) (P050604E4) Nos versos "O grilo [...] / anda grilado" (v. 10-12), a expressão em destaque apresenta linguagem usada em
- A) conversas com amigos e familiares.
  - B) determinada região do país.
  - C) livros de Ciências.
  - D) notícias de jornal.

Grilo Grilado	
5	O grilo coitado, anda grilado.  E eu sei o que há.
10	Salta <u>pra</u> aqui salta pra ali <u>Cri-cri</u> pra cá <u>cri-cri</u> pra lá.
15	O grilo coitado, anda grilado  <u>e</u> não quer contar.
20	No fundo não ilude.
25	É só reparar em sua atitude <u>pra</u> se desconfiar.

JOSÉ, Elias. Disponível em: <<http://ler-com-prazer.blogspot.com/2009/10/o-grilo-grilado-elias-jose.html>>. Acesso em: 6 fev. 2013. (P050563E4\_SUP)

### QUESTÃO 02

- a) No 7º ano da escola Mundial, 10 alunos gostam de Língua Portuguesa, 16 gostam de Educação Física, 5 gostam das duas disciplinas e 8 não responderam. Quantos alunos há nessa sala?

R: \_\_\_\_\_

- b) Das 40 pessoas que participaram de uma pesquisa, 10 gostam da revista A, 12 gostam da revista B e 18 gostam das duas revistas. Quantas pessoas gostam da revista A e quantas gostam da revista B?

R: \_\_\_\_\_

- c) No ano passado, a empresa aérea Tim Tim, teve um aumento mensal nas vendas de passagens. Os números de vendas foram os seguintes: em janeiro foram vendidas 33.000 passagens; em fevereiro 34.500; em março 36.000. Esse padrão de crescimento se mantém para os meses subsequentes. Quantas passagens foram vendidas pela empresa no mês de julho?

R: \_\_\_\_\_

O prédio Don Amador foi inaugurado no ano de 1971, na rua do Ouvidor em São Paulo, neste ano houve a primeira reunião do condomínio. Nessa reunião Carlos e os inquilinos, decidiram que, a contar daquela data, de 6 em 6 anos o edifício passaria por obras de conservação. Supondo que essa continue sendo cumprida, responda?

- 1) Em que ano ocorreu a 1ª obra de conservação?

R: \_\_\_\_\_

- 2) Qual o ano da 16ª reforma?

R: \_\_\_\_\_

"A Educação é o melhor caminho para construir um futuro melhor"

5° ANO



NOME: \_\_\_\_\_

PROFESSOR (A): \_\_\_\_\_

### QUESTÃO 01

Releia o texto A Bela Adormecida

1) Leia a frase retirada do texto e responda as questões abaixo:

**"De repente, apareceu a bruxa Malévola, furiosa por não ter sido convidada para a festa.**

a) Nesta frase existe um adjetivo, qual é?

\_\_\_\_\_

b) Qual é a palavra primitiva que deu origem a palavra Malévola?

\_\_\_\_\_

2) Separe as sílabas das palavras abaixo e classifique-as de acordo com a quantidade de sílabas:

Princesa		
Flora		
Profundo		
Feitiço		
Roca		
Lá		
Protegessem		

3) Empregue a vírgula onde for necessário:

a) Comprei um casaco uma calça e uma blusa.

b) Adriana aonde você vai?

c) Rodeiro 27 de setembro de 2020.

c) Av. Alvarenga Peixoto nº 321 Ipanema.

## QUESTÃO 02

### PROBLEMAS:

- a) O supermercado recebeu 12 caixas de barras de chocolate com 3 dúzias de barras cada uma. Já vendeu 170 barras. Quantas ainda restam ?

R. \_\_\_\_\_

---

- b) Uma escola comprou pacotes com meia dúzia de cadernos cada um . Já foram distribuídos 1.800 e ainda restam 360. Quantos pacotes de cadernos foram comprados

R. \_\_\_\_\_

---

## QUESTÃO 03

Jorge treinou durante 1 ano para um campeonato.  
Durante quantos meses Jorge treinou para esse campeonato?

- A) 1
- B) 6
- C) 10
- D) 12

## QUESTÃO 04

Observe abaixo uma das decomposições de um número.

$$10\,000 + 5\,000 + 900 + 8$$

Essa é uma decomposição do número

- A) 10 598      B) 15 098
- C) 15 908      D) 15 980



"A Educação é o melhor caminho para construir um futuro melhor"

5° ANO



NOME: \_\_\_\_\_

PROFESSOR (A): \_\_\_\_\_

**QUESTÃO 01**

**Produção de texto**

Vamos recordar as brincadeiras que mais gostamos? Você vai escrever um texto ensinando como organizar e desenvolver uma brincadeira de sua referência. Beleza, não é? O texto deve informar o nome da brincadeira, o número de participantes, os materiais necessários e como brincar. Pode começar!

\_\_\_\_\_

\_\_\_\_\_

\_\_\_\_\_

\_\_\_\_\_

\_\_\_\_\_

\_\_\_\_\_

\_\_\_\_\_

\_\_\_\_\_

\_\_\_\_\_

\_\_\_\_\_

\_\_\_\_\_

\_\_\_\_\_

\_\_\_\_\_

\_\_\_\_\_

\_\_\_\_\_

\_\_\_\_\_

\_\_\_\_\_

\_\_\_\_\_

\_\_\_\_\_

\_\_\_\_\_

\_\_\_\_\_

\_\_\_\_\_



**QUESTÃO 02**

$(57 - 24) + (43 - 34) =$

$245 - (38 + 72 + 135) =$

$567 - (3 \times 45 : 9) - 24 : 24 =$

$123 - (3 \times 4 + 34) - 12 =$

Resolva as expressões.

**QUESTÃO 03**

Um artesão vende um conjunto de pulseira e um par de brincos por R\$40 reais. Se um cliente desejar compra apenas a pulseira ele deve pagar R\$20,00 e se desejar comprar somente o par de brincos ele pagará R\$25,00. No sábado o artesão vendeu ao todo 72 pulseiras, 80 pares de brincos e 52 conjuntos nesse sábado, quanto o artesão arrecadou com suas vendas?

a- R\$3.180,00  
R\$5.520,00

b-R\$2.780,00

c-R\$2.080,00

d-

**QUESTÃO 04**

Letícia retira todo mês o extrato bancário para conferir todos os débitos e créditos da sua conta. No final de janeiro, ela observou as seguintes informações:

Saldo inicial de 590 reais

Crédito de 250 reais e outro de 600 reais

Débitos de 350 reais, 195 reais e 93 reais.

Qual o saldo final da conta?

a-222 reais

b-378 reais

c-802 reais

d -144 reais.

"A Educação é o melhor caminho para construir um futuro melhor"

5° ANO



PROFESSOR (A): \_\_\_\_\_

### QUESTÃO 01

Leia o texto abaixo.

#### Hotel mal-assombrado

Drácula é um pai superprotetor e todo meiguinho com a filha Mavis, dá para acreditar? Acredite! Na animação *Hotel Transilvânia* [...] o vampiro chama sua filha com todos os diminutivos carinhosos possíveis. [...] Sua principal missão na vida é proteger a filha dos humanos. Para isso, ele constrói um hotel numa região livre de homens, onde os monstros podem relaxar sem precisar se esconder nas sombras.

Quando a adolescente Mavis completa 118 anos, seu pai resolve fazer um festão! Chama Frankenstein, Lobisomem, Múmia, Homem Invisível e todo tipo de fera, acompanhado de esposa e filhos, para comemorar. Acontece que, no meio da festa, um humano aparece. Jonathan é um mochileiro que pode levar o hotel à falência se descobrirem que ele não é totalmente livre de humanos. Drácula vai fazer de tudo para sumir com o rapaz. Mas nada dá certo e Jonathan acaba se fantasiando de monstro para não ser descoberto pelas assombrações verdadeiras. E Mavis, que só queria sair do castelo e conhecer o mundo, acaba se apaixonando pelo rapaz. Vai ser confusão na certa com Drácula!

a-De acordo com esse texto, a principal missão na vida de Drácula é:

- A) construir um hotel em uma região sem humanos.
- B) dar uma festa de aniversário para sua filha Mavis.
- C) proteger sua filha Mavis dos humanos.
- D) sumir com o rapaz que aparece no hotel.

b-Nesse texto, no trecho "... descobrirem que ele não é totalmente livre de humanos." (l. 9-10), o termo em destaque refere-se à palavra:

- A) Drácula.
- B) hotel.
- C) Jonathan.
- D) mundo.

c- Nesse texto, o trecho que marca a ideia de lugar é:

- A) "Quando a adolescente Mavis completa 118 anos,..." (l. 6)
- B) "... que ele não é totalmente livre de humanos." (l. 9-10)
- C) "... Jonathan acaba se fantasiando de monstro..." (l. 11)
- D) "E Mavis, que só queria sair do castelo..." (l. 12)


**d-Leia novamente o texto "Hotel mal-assombrado" para responder à questão abaixo.**

Nesse texto, o trecho que apresenta uma opinião é:

- A) "... ele constrói um hotel numa região livre de homens,..." (l. 4)
- B) "... no meio da festa, um humano aparece." (l. 8)
- C) "Jonathan é um mochileiro que pode levar o hotel à falência..." (l. 9)
- D) "Vai ser confusão na certa com Drácula!" (l. 13)

### QUESTÃO 02

Observe os desenhos na malha quadriculada abaixo.



Nessa malha, as letras representam as linhas e os números, as colunas. De acordo com essa malha, marque com um X no desenho localizado na linha N e na coluna 4?



### QUESTÃO 03

Resolva as multiplicações;

a-  $3\ 467 \times 45$

b-  $10417 \times 86$

"A Educação é o melhor caminho para construir um futuro melhor"

5° ANO



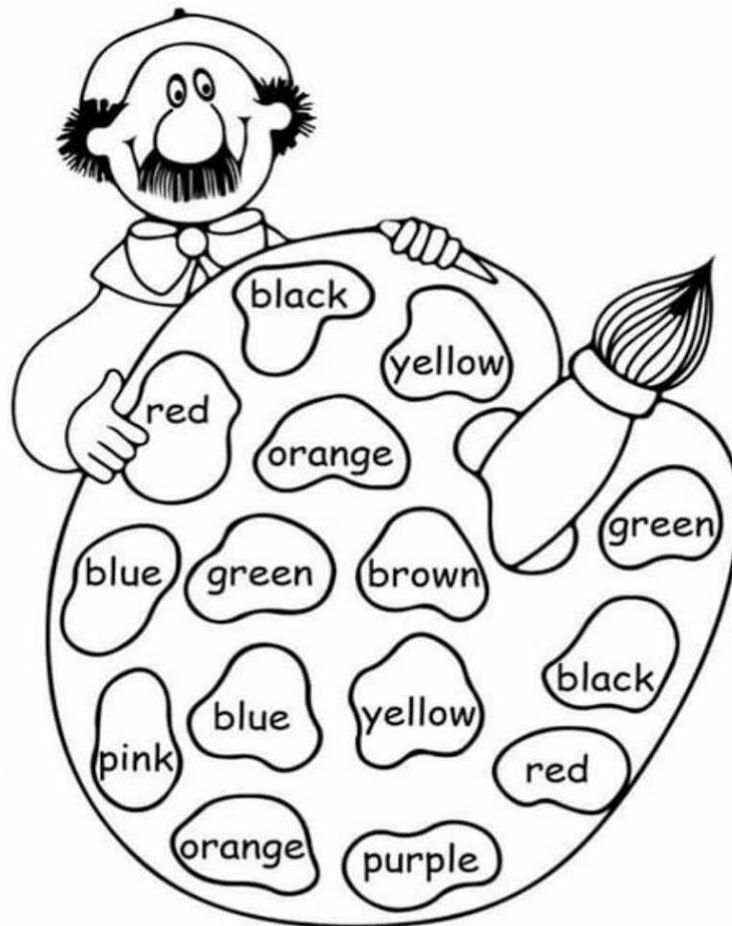
NOME: \_\_\_\_\_

PROFESSOR (A): \_\_\_\_\_

### Língua Inglesa

#### QUESTÃO 01

Vamos colorir com as cores indicadas:



"A Educação é o melhor caminho para construir um futuro melhor"

5° ANO




NOME: \_\_\_\_\_

PROFESSOR (A): \_\_\_\_\_

### QUESTÃO 01

Leia o texto abaixo.



Folha de São Paulo. *Folhinha*. p. 8, 12 fev. 2005.  
(P041681E4\_SUP)

Nesse texto, no alto da árvore, a mãe passarinho está

- A) brincando com seu filhote.
- B) dando aula de voo ao filhote.
- C) ensinando os perigos da mata.
- D) mostrando como fazer um avião.

### QUESTÃO 02

Leia o texto abaixo e responda as questões 1, 2 e 3.

#### Lições em casa

Você já notou que muitos bichos preferem ficar em turma? Vivendo em grupo, os mais velhos protegem os mais novos. E os filhotes aprendem a encarar a vida na mata observando os adultos.

Com os humanos acontece a mesma coisa. Rodeado pelos familiares, nos sentimos protegidos. Deles recebemos carinho, cuidados e aprendemos uma porção de coisas.

In: Revista Recreio. Garota Atômica. Ano 05-10/03/05- n° 261

**1. O texto tem a finalidade de**

- (A) fazer um convite. (B) divertir o leitor.  
(C) ensinar uma brincadeira. (D) informar sobre alguns hábitos.

**2. O texto foi escrito**

- (A) somente para adultos.  
(B) para pessoas interessadas em curiosidades.  
(C) somente para crianças.  
(D) para pessoas que leem fábulas na internet.

**3. Segundo o texto**

Marque a resposta correta;

- (A) os humanos e alguns bichos preferem ficar em turma, assim se sentem protegidos e recebem carinho.  
(B) alguns bichos e seres humanos vivem em turma para protegerem os mais velhos.  
(C) os bichos e os humanos preferem viver sozinhos.  
(D) somente os humanos aprendem com os mais velhos.

**QUESTÃO 03**

a-Ana dividiu um pacote de bala entre 18 amigos. Cada um recebeu 14 balas, Ana ficou com o restante de 17 balas. Sabe-se que o resto dessa divisão é a maior possível:

A quantidade de balas que havia no pacote antes de Ana distribuí-las era equivalente a :

R \_\_\_\_\_

Faça seu registro.



b-Paulo calculou o valor do imóvel em 360 parcelas mensais. Quanto faltava para pagar 115 parcelas, ele quitou a dívida. Por enquanto tempo ele ficou pagando financiamento?

Resposta \_\_\_\_\_

Faça seu registro. \_\_\_\_\_



#### QUESTÃO 04

Resolva as operações:

a- $5.678:4=$

b- $40 \times 3.485=$

c- $21.600 - 18.467=$

d- $5.893:7=$

2-  $29456 : 14=$



"A Educação é o melhor caminho para construir um futuro melhor"

5° ANO



NOME: \_\_\_\_\_

PROFESSOR (A): \_\_\_\_\_

### QUESTÃO 01

Leia o texto abaixo e responda as questões 1, 2 e 3.

#### Lições em casa

Você já notou que muitos bichos preferem ficar em turma? Vivendo em grupo, os mais velhos protegem os mais novos. E os filhotes aprendem a encarar a vida na mata observando os adultos.

Com os humanos acontece a mesma coisa. Rodeado pelos familiares, nos sentimos protegidos. Deles recebemos carinho, cuidados e aprendemos uma porção de coisas.

In: Revista Recreio. Garota Atômica. Ano 05-10/03/05- n° 261

#### 1. O texto tem a finalidade de

- (A) fazer um convite. (B) divertir o leitor.  
(C) ensinar uma brincadeira. (D) informar sobre alguns hábitos.

#### 4. O texto foi escrito

- (A) somente para adultos.  
(B) para pessoas interessadas em curiosidades.  
(C) somente para crianças.  
(D) para pessoas que leem fábulas na internet.

#### 5. Segundo o texto

- (A) os humanos e alguns bichos preferem ficar em turma, assim se sentem protegidos e recebem carinho.

- (B) alguns bichos e seres humanos vivem em turma para protegerem os mais velhos.  
(C) os bichos e os humanos preferem viver sozinhos.  
(D) somente os humanos aprendem com os mais velhos.

### QUESTÃO 02

Leia os textos abaixo e responda:

#### TEXTO 1

Quantas vezes por semana doces e refrigerantes podem entrar no cardápio do meu filho?

Depende. "Se a criança estiver acima do peso, ofereça duas porções desses itens por semana", recomenda a nutricionista Priscila Maximino. Mas, se ela não vive em pé de guerra com a balança, três porções semanais estão de bom tamanho.

#### TEXTO 2

##### POEMA DA ALIMENTAÇÃO

Para a gente ter saúde,	Não te esqueças das saladas
E sentir-se equilibrada,	Ou dos legumes cozidos,
É necessário que mude	Com as suas cores variadas
Uma coisa ou outra errada.	Fazem pratos coloridos.

<http://www.slideshare.net/ladonordeste/poema-da-alimentao-presentation>

4. Os dois textos tratam, principalmente, sobre;

- (A) os cuidados com uma boa alimentação. (B) os perigos causados por refrigerantes.  
(C) a obesidade das crianças e jovens. (D) os problemas de saúde das pessoas.

### QUESTÃO 03

Os números romanos são;

1 V = 5 X = 10 L = 50 C = 100 D =

REPRESENTE OS NÚMEROS ABAIXO POR MEIO DE NÚMEROS ROMANOS:

27 = \_\_\_\_\_

832 = \_\_\_\_\_

325 = \_\_\_\_\_

999 = \_\_\_\_\_

400 = \_\_\_\_\_

1.376 = \_\_\_\_\_

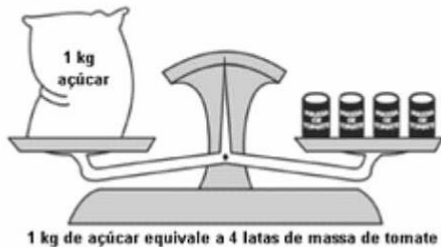
443 = \_\_\_\_\_

2.682 = \_\_\_\_\_

574 = \_\_\_\_\_

#### QUESTÃO 04

Na mercearia “Tudo a Mão”, as mercadorias são pesadas numa balança de dois pratos. Um vendedor observou que a balança ficava em equilíbrio, quando ele colocava de um lado 1 kg de açúcar e do outro 4 latas de massa de tomate. Veja a ilustração abaixo.



Dessas latas de massa de tomate, quantas são necessárias para equilibrar 6 kg de açúcar?  
R \_\_\_\_\_

#### QUESTÃO 05

Num pacote de balas contendo 10 unidades, o peso líquido é de 49 gramas. Em 5 pacotes teremos quantos gramas?

- (A) 59 (B) 64 (C) 245 (D) 295

#### QUESTÃO 06

Uma merendeira preparou 558 pães que foram distribuídos igualmente em 18 cestas. Quantos pães foram colocados em cada cesta?

- (A) 31 (B) 31 (C) 55 (D) 783

#### QUESTÃO 07

Adriana fez a subtração abaixo.

$$679 - 38$$

O resultado dessa operação é:

- (A) 299 (B) 399 (C) 631 (D) 641

#### QUESTÃO 08

O número natural que é obtido quando é feita a adição de 3.415 e 295 é:

- (A) 6.365 (B) 3.710 (C) 3.610 (D) 3.600

"A Educação é o melhor caminho para construir um futuro melhor"

5° ANO



NOME: \_\_\_\_\_

PROFESSOR (A): \_\_\_\_\_

### QUESTÃO 01

Leia o texto;

#### QUE BANHO!



Algumas aves, além de aproveitar a água para se limpar, tomam banho de poeira. Por isso, não estranhe se você vir pardais se agachando no chão e mexendo as patas e as asas até criar uma nuvem de pó. Acredite: eles estão se limpando: "Quanto mais sujos ficam, melhor. Dá a impressão de que poeira é sujeira e que deveria sempre ser eliminada, mas, no caso dos pássaros, o pó é como se fosse um remédio preventivo contra parasitas", conta César Ades, lembrando que também existem alguns tipos de peixes que tomam banho de lama.

<http://chc.cienciahoje.uol.com.br/noticias/2010/setembro/ta-limpo>

#### a-Para os pássaros, o pó

- (A) deveria ser eliminado.      (B) é sujeira.      (C) previne parasitas.      (D) é banho de lama

#### b-No trecho "eles estão se limpando", o segmento em destaque refere-se

- (A) a parasitas      (B) a pássaros      (C) a patos      (D) a pardais

### QUESTÃO 02

Leia o trecho do texto "A velha Contrabandista"

Um dia, quando ela vinha na lambreta com o saco atrás, o fiscal da Alfândega mandou ela parar. A velhinha parou e então o fiscal perguntou assim para ela:

-Escuta aqui, vovozinha, a senhora passa por aqui todo dia, com esse saco aí atrás. Que diabo a senhora leva nesse saco?

Na frase, “**Um dia**, quando ela vinha na lambreta com o saco atrás, o fiscal da Alfândega mandou ela parar.” A expressão grifada dá ideia de:

- (A) causa (B) lugar (C) modo (D) tempo

### QUESTÃO 03

Leia

#### A MATA ATLÂNTICA

A vegetação original que formava a Mata \_\_\_\_\_ esta reduzida a 7% de sua cobertura original. De mais de um milhão de \_\_\_\_\_ quadrados de árvores, restam apenas ilhas de floresta ou, quando muito, corredores isolados. Do que se perdeu, pouco sabemos. Milhares ou talvez milhões de espécies deixaram de ser conhecidas. O que sobrou, porém, é um tesouro: em suas áreas mais povoadas, 476 espécies de plantas arbóreas e centenas de espécies animais por hectare- recorde de biodiversidade. O papel de \_\_\_\_\_, nesse quadro, é extremamente importante.

São Paulo: História e Geografia 4º ano/5º ano, volume único: ensino fundamental: anos iniciais/Silvia Szterling Munimos, Fernando Carraro – 1. Ed. – São Paulo: FTD, 2014.

. Marque o conjunto de palavras, escritas corretamente, que completam de forma mais adequada as lacunas do texto.

- (A) Atlântica, quilômetros, ciência. (B) Atlântica, quilômetros, ciência.  
(C) Atlântica, quilômetros, ciência. (D) Atlântica, quilômetros, ciência.

### QUESTÃO 04

Represente com números romanos, conforme o exemplo:

*quatrocentos e setenta e seis = **cdlxvi***

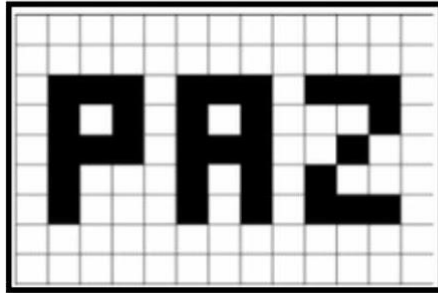
- A) oitocentos e oitenta e oito = \_\_\_\_\_  
B) dois mil, setecentos e quatro = \_\_\_\_\_  
C) três mil, novecentos e dez = \_\_\_\_\_  
D) mil, seiscentos e trinta e nove = \_\_\_\_\_  
E) mil e quinhentos = \_\_\_\_\_  
F) quatrocentos e noventa = \_\_\_\_\_  
G) setenta e quatro = \_\_\_\_\_

H) três mil e quatrocentos e dez = \_\_\_\_\_

I) dois mil e oitocentos = \_\_\_\_\_

#### QUESTÃO 05

Utilizando, como unidade de medida, o quadradinho do papel quadriculado, a área da palavra "PAZ" representada abaixo é igual a:



- (A) 18 quadradinhos. (B) 31 quadradinhos.  
(C) 45 quadradinhos. (D) 50 quadradinhos.

#### QUESTÃO 06

João participou de um campeonato de judô na categoria juvenil, pesando 45,350kg. Cinco meses depois estava 3,150kg mais pesado e precisou mudar de categoria. Quanto ele estava pesando

- (A) 14,250kg (B) 40,850kg (C) 48,500kg (D) 76,450kg

#### QUESTÃO 07

Para ir de Porto Alegre a Curitiba, um avião leva uma hora e meia. Essa viagem dura:

- A) 60 minutos. B) 90 minutos. C) 30 minutos d)15 minutos

#### QUESTÃO 08

Gilda comprou copos descartáveis de 200 mililitros, para servir refrigerantes, em sua festa de aniversário. Quantos copos ela encherá com 1 litro de refrigerante?

( )9 ( )5

( )3 ( )7

"A Educação é o melhor caminho para construir um futuro melhor"

5° ANO



NOME: \_\_\_\_\_

PROFESSOR (A): \_\_\_\_\_

**QUESTÃO 01**

Leia o livro literário

FALANDO SOBRE O LIVRO...

Título \_\_\_\_\_

Autor (es) \_\_\_\_\_

Editora \_\_\_\_\_

Personagens \_\_\_\_\_

Assunto \_\_\_\_\_

Descreva as características do personagem que mais gostou.

\_\_\_\_\_  
\_\_\_\_\_

Faça um pequeno resumo do livro;

\_\_\_\_\_  
\_\_\_\_\_  
\_\_\_\_\_  
\_\_\_\_\_  
\_\_\_\_\_  
\_\_\_\_\_

\_\_\_\_\_  
\_\_\_\_\_  
\_\_\_\_\_  
\_\_\_\_\_  
\_\_\_\_\_  
\_\_\_\_\_  
\_\_\_\_\_  
\_\_\_\_\_  
\_\_\_\_\_  
\_\_\_\_\_

Ler é desvendar mundos desconhecidos!

Simone Helen Drummond Ischkarian



**Questão 02**

**DESAFIO**

Complete o quadro com os números de 1 a 9, de modo em que qualquer direção (vertical, horizontal e diagonal a soma dos resultados será sempre o mesmo valor.



**Questão 03**

**Situações problema**

- 1) Joaquim pegou na granja de sua fazenda, para vender para o mercado, 16 caixas com 20 dúzias de ovos. Quantos ovos ele pegou na granja?

R.:

---

- 2) Adelmo retirou na seara 320 laranjas na segunda, na terça retirou o triplo dessa quantidade, e na sexta foi o quádruplo. Quantas laranjas foram retiradas na semana toda?

R.:

---



"A Educação é o melhor caminho para construir um futuro melhor"

5° ANO



NOME: \_\_\_\_\_

PROFESSOR (A): \_\_\_\_\_

### QUESTÃO 01

Leia o texto;

#### O que é coronavírus? (COVID19)

Coronavírus é uma família de vírus que causam infecções respiratórias. O novo agente do coronavírus foi descoberto em 31/12/19, após casos registrados na China. Provoca a doença chamada de coronavírus (COVID-19). Os primeiros coronavírus humanos foram isolados pela primeira vez em 1937. No entanto, foi em 1965 que o vírus foi descrito como coronavírus, em decorrência do perfil na microscopia, parecendo uma coroa.

A maioria das pessoas se infecta com os coronavírus comuns ao longo da vida, sendo as crianças pequenas mais propensas a se infectarem com o tipo mais comum do vírus. Os coronavírus mais comuns que infectam humanos são o alpha coronavírus 229E e NL63 e beta coronavírus OC43, HKU1.

#### Responda;

1) Que tipo de texto acabamos de ler?

\_\_\_\_\_

2) Onde ele pode ser encontrado?

\_\_\_\_\_

3) O que ele informa?

\_\_\_\_\_

4) Para quem o texto foi produzido?

\_\_\_\_\_

5) Descreva o motivo pelo qual foi estabelecido o nome "coronavírus"?

\_\_\_\_\_

\_\_\_\_\_

6) Qual é o significado da palavra microscopia?

---

---

7) Faça uma pesquisa e descubra o significado dos termos COVID19.

---

---

---

8) Cite as recomendações que devemos ter para evitar o contágio.

---

---

---

9) Em relação às recomendações expostas acima, a respeito dos cuidados que devemos ter, você acha que as pessoas estão fazendo o necessário para evitar o contágio? E quanto a você, quais são as precauções que tem tomado, em casa, e ao sair?

---

---

---

### Questão 02

A imagem abaixo, apresenta a situação das doenças nos países da América Latina.

Observe o mapa retirado desse site, no dia 25 de março de 2020 às 16h, aproximadamente



Com base nas informações presentes na imagem acima, preencha o número de casos confirmados com a doença Coronavírus (COVID 19) em cada país, representado na tabela abaixo. Casos de Coronavírus na América Latina

País	Nº de casos (Coronavírus)
Costa Rica	177
Equador	
Panamá	
Trindade	
Venezuela	
Gyana	5
French Guiana	
Colômbia	
Peru	
Bolívia	
Paraguai	
Uruguai	
Brasil	2201
Argentina	
Chile	

a- Qual país tem a maior quantidade de contaminação?

\_\_\_\_\_

b- Qual a diferença de contaminação entre o menor e maior país contaminado.

\_\_\_\_\_

d- Escreva por extenso os números que contaminação de cada país abaixo;

BRASIL \_\_\_\_\_

\_\_\_\_\_

EQUADOR \_\_\_\_\_

\_\_\_\_\_

ARGENTINA \_\_\_\_\_

\_\_\_\_\_

"A Educação é o melhor caminho para construir um futuro melhor"

5° ANO



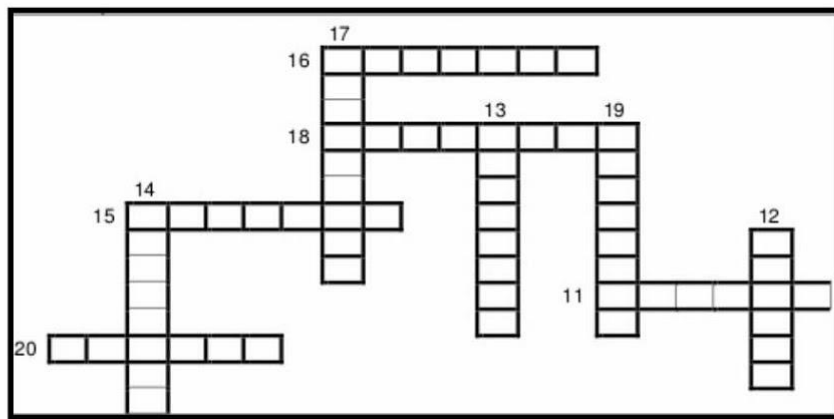
NOME: \_\_\_\_\_

PROFESSOR (A): \_\_\_\_\_

### Língua Inglesa

#### QUESTÃO 01

Complete com os números em inglês



Escreva os números em inglês:

a) 35 \_\_\_\_\_

b) 56 \_\_\_\_\_

c) 12 \_\_\_\_\_

d) 90 \_\_\_\_\_

e) 46 \_\_\_\_\_

f) 100 \_\_\_\_\_

g) 89 \_\_\_\_\_

"A Educação é o melhor caminho para construir um futuro melhor"

5° ANO




NOME: \_\_\_\_\_

PROFESSOR (A): \_\_\_\_\_

### QUESTÃO 01

Observe a imagem a seguir:



Disponível em: [Charge do Amarildo: Combate ao Coronavírus - Fiquem em casa!](#). Acesso em: 25 mar. 2020.

O texto é uma charge, e tem por objetivo, ilustrar, por meio da sátira, os acontecimentos atuais que despertam o interesse público.

A- Qual é o assunto da charge?

\_\_\_\_\_

B-O assunto está relacionado com alguma das recomendações solicitadas pelas autoridades de nossa cidade, estado ou país? Qual é a recomendação?

\_\_\_\_\_

B- Qual é o humor da charge?

---


C- O que surpreendeu o Caracol?

---

D- Na charge, o ponto de exclamação foi utilizado duas vezes, porém com sentidos diferentes. Diante dessa informação, descreva o sentido em que cada um foi utilizado.

---

E- Que tal agora você produzir a sua charge! Escolha um tema atual, que chame a sua atenção, e mãos à obra. Lembre-se! A charge possui as características, que já foram mencionadas no decorrer das atividades, mas se quiser, fique à vontade para pesquisar mais sobre esse gênero.



**QUESTÃO 02**

Observe as informações sobre a evolução dos casos ativos do Coronavírus ocorridos no Brasil, até a data representada.



Figura2:Disponível em: <https://www.covidvisualizer.com/>. Acesso em: 26 mar 2020 - 11h 42min.

a) Qual foi a quantidade de casos ativos no país naquele momento? \_\_\_\_\_

b) Escreva o número representado no item (a) por extenso.  
\_\_\_\_\_  
\_\_\_\_\_

c) Observe o número obtido na resposta do item (a) e complete as frases a seguir:

1- O algarismo \_\_\_\_\_ ocupa a ordem das centenas e equivale a \_\_\_\_\_ unidades.

2- O número \_\_\_\_\_ ocupa a ordem das \_\_\_\_\_ e equivale a \_\_\_\_\_ unidades.

d) Faça uma pesquisa da evolução da contaminação do coronavírus no nosso país e na nossa cidade atualmente e registre os dados abaixo.

\_\_\_\_\_  
\_\_\_\_\_  
\_\_\_\_\_  
\_\_\_\_\_  
\_\_\_\_\_  
\_\_\_\_\_

"A Educação é o melhor caminho para construir um futuro melhor"

5° ANO



NOME: \_\_\_\_\_

PROFESSOR (A): \_\_\_\_\_

### QUESTÃO 01

#### A GANSA DE OVOS DE OURO

Certa manhã, um fazendeiro descobriu que sua gansa tinha posto um ovo de ouro. Apanhou o ovo, correu para casa, mostrou-o à mulher, dizendo:

- Veja! Estamos ricos!

Levou o ovo ao mercado e vendeu-o por um bom preço.

Na manhã seguinte, a gansa tinha posto outro ovo de ouro, que o fazendeiro vendeu a um melhor preço.

E assim aconteceu durante muitos dias.

Mas quanto mais rico ficava o fazendeiro, mais dinheiro queria. E pensou: "se esta gansa põe ovos de ouro, dentro dela deve haver um tesouro".

Matou a gansa e por dentro, a gansa era igual a qualquer outra.

Disponível em: [chaodeestrelascasilandia.blogspot.com/2012/03/fabula-gansadeouro](http://chaodeestrelascasilandia.blogspot.com/2012/03/fabula-gansadeouro)

#### a- A fonte de renda do fazendeiro terminou quando ele

- (A) resolveu vender os ovos de ouro.
- (B) tentou descobrir o que havia dentro da gansa.
- (C) pensou ter encontrado um tesouro.
- (D) vendeu a gansa.

#### b-A moral mais adequada a essa fábula é

- (A) Jamais confie nas aparências.
- (B) Quem ajuda ao próximo ajuda a si mesmo.
- (C) Quem tudo quer, tudo perde.
- (D) Quem ama o feio, bonito lhe parece.

#### b- Que recurso foi utilizado pelo autor para indicar a fala do personagem na fábula?

- (A) Ponto de exclamação. (B) Travessão.
- (C) Ponto de interrogação. (D) Vírgula



"A Educação é o melhor caminho para construir um futuro melhor"

5° ANO




NOME: \_\_\_\_\_

PROFESSOR (A): \_\_\_\_\_

### Língua Inglesa


#### 1. Complete a sequência:

- a. one - \_\_\_\_\_ - three
- b. \_\_\_\_\_ - five - six
- c. seven - eight - \_\_\_\_\_
- d. ten - \_\_\_\_\_ - twelve
- e. thirteen - \_\_\_\_\_ - fifteen
- f. \_\_\_\_\_ - seventeen - \_\_\_\_\_
- g. nineteen - \_\_\_\_\_ - \_\_\_\_\_



#### 2. Calcule e escreva em inglês os resultados:

- a.  $10 + 2 =$  \_\_\_\_\_
- b.  $15 - 5 =$  \_\_\_\_\_
- c.  $16 + 30 =$  \_\_\_\_\_
- d.  $50 + 2 =$  \_\_\_\_\_
- e.  $60 + 2 + 4 =$  \_\_\_\_\_
- f.  $5 \times 8 =$  \_\_\_\_\_
- g.  $10 \times 2 =$  \_\_\_\_\_
- h.  $10 - 2 =$  \_\_\_\_\_
- i.  $30 + 7 =$  \_\_\_\_\_
- j.  $42 - 7 =$  \_\_\_\_\_
- k.  $55 - 6 =$  \_\_\_\_\_
- l.  $27 + 8 + 25 =$  \_\_\_\_\_



"A Educação é o melhor caminho para construir um futuro melhor"

5º ANO



NOME: \_\_\_\_\_

PROFESSOR (A): \_\_\_\_\_

### QUESTÃO 01

#### Alimentos energéticos, construtores e reguladores.

**Voce** sabe a diferença entre alimentos energéticos, construtores e reguladores e a **importancia** de cada tipo de alimento para o organismo?

Os alimentos energéticos são aqueles que fornecem energia para todos os processos metabólicos, para os exercícios e atividades realizados pelo corpo. Funciona de forma semelhante ao combustível de um carro. Os alimentos construtores são responsáveis pela construção e formação do corpo, ou seja, os que promovem o crescimento. Os alimentos reguladores controlam as funções do organismo, através de sua ingestão é possível manter a pele saudável, e ter uma melhor formação dos tecidos do organismo.

Para ter uma alimentação eficiente é necessário equilibrar a ingestão dos **tres** tipos de alimentos.

**a- O redator esqueceu de acentuar as palavras que estão em negrito. Ajude-o assinalando a alternativa correta:**

- (A) **vóce**, importância e três.                      (B) **ocê**, importância e três.  
(C) **ocê**, importância e tres.                      (D) **ocê**, importância e três.

### QUESTÃO 02

**Leia o texto:**

#### A antiga versão dos "fugitivos" de Piracaia

a mais antiga explicação sobre as origens de Itatiba foi dada por Eugênio Joly em 1876. Grande estudioso e interessado pela nossa história, divulgou a versão de que Itatiba teria sido "fundada" por fugitivos da cadeia de Piracaia lá pelos anos de 1804. Segundo o autor, aqueles criminosos teriam descido o rio Atibaia se fixado em terras que, posteriormente, formariam o futuro município de Itatiba.

**a- Mais uma confusão! O redator foi digitar o texto para o livro sobre a história de Itatiba e se confundiu com a letra maiúscula. Assinale a alternativa em que as palavras devem se escritas em maiúscula:**

- (A) A (início do parágrafo), Itatiba, divulgou, Segundo.  
(B) (B) Itatiba, Eugênio, Segundo, Posteriormente.  
(C) (início do parágrafo), Itatiba, Eugênio, Segundo.  
(D) Itatiba, Eugênio, Posteriormente, Aquelas.

"A Educação é o melhor caminho para construir um futuro melhor"

5° ANO



NOME: \_\_\_\_\_

PROFESSOR (A): \_\_\_\_\_

### QUESTÃO 01

Leia o texto

#### A CHATA OU AS BARATAS

Esta noite tive um sonho. Sonhei que os cachorros, gatos, peixes, pássaros, moscas, baratas, todos tinham a voz ardida da minha irmã mais nova, a Andreia.

No sonho, todos os bichos começaram a se manifestar ao mesmo tempo: o cachorro latia, o gato miava, as moscas zumbiam, as baratas corriam e os peixes nadavam. Eu queria fugir, mas as pernas não me obedeciam. Foi quando as baratas descontroladas e cegas começaram a subir em meus pés descalços... Ai!

Abri a boca para gritar, apavorado, mas a voz não saía, e quando saiu era igual à voz da chata da minha irmã, que de repente entrou no meu sonho e falou:

-- ACORDA, VAMOS BRINCAR!

Pulei da cama e, quando a vi acordada em cima do meu pé, no lugar das baratas, confesso: até que gostei...

Pensando bem, minha irmã não é assim tão ruim como parece.

Dilea Frate

**a. Os bichos que, no sonho do narrador, tinham a voz igual à da Andréia eram:**

- A) os cachorros, gatos e peixes.
- B) os cachorros, gatos, peixes e pássaros.
- C) os cachorros, gatos, peixes, pássaros e moscas.
- D) os cachorros, gatos, peixes, pássaros, moscas e baratas

**b. Você entende que, no sonho, o narrador ficou apavorado, sem voz, por quê?**

- A) as baratas começaram a subir em seus pés.
- B) os bichos tinham a mesma voz ardida da irmã.
- C) a irmã não era assim tão ruim.

"A Educação é o melhor caminho para construir um futuro melhor"

5° ANO



NOME: \_\_\_\_\_

PROFESSOR (A): \_\_\_\_\_

### QUESTÃO 01

#### Leia o texto

#### O diário de Serafina

Hoje devia ser dia 30 de fevereiro, dia de São Nunca, o dia de lua estourada de tão cheia! O mundo parece ter virado de cabeça pra baixo!

Querido diário,

Hoje eu só podia mesmo estar escrevendo em você de cabeça para baixo. Desde que acordei, parece que as coisas resolveram acontecer, ao contrário.

Comecei levantando com o pé esquerdo, na certa, depois tropecei no meu chinelo, e quando olhei no relógio da sala vi que tinha perdido a hora. Já eram oito horas e nem o pai nem a mãe tinham acordado ainda. Ninguém se entendia, ninguém achava nada, a gente só dava trombadas um no outro.

A mãe andava de um lado pro outro, nervosa, porque o pai tinha marcado um encontro com o seu Nestor às oito horas, para tratar de um negócio importante, e eu tinha prova na escola. Se a professora não me deixasse entrar atrasada, eu estava frita!

Ah, e pra completar, na confusão, a mãe errou e pôs sal em vez de açúcar no café! Bom, por fim, a gente acabou saindo de casa, o pai penteando o cabelo na rua, eu amarrando o cordão do sapato de escola na calçada, e a mãe, de camisola, olhando a gente do portão, imagine!

### QUESTÃO 02

#### Responda:

a) Quem escreve o diário?

\_\_\_\_\_

b) Quem é a autora do texto?

\_\_\_\_\_

c) Por que a menina diz para o diário que só podia estar escrevendo nele de cabeça para baixo?

\_\_\_\_\_  
\_\_\_\_\_  
\_\_\_\_\_



"A Educação é o melhor caminho para construir um futuro melhor"

5° ANO



NOME: \_\_\_\_\_

PROFESSOR (A): \_\_\_\_\_

### QUESTÃO 01

Roseana Murray escreve poesias e contos infantis para crianças e jovens.

Leia o poema abaixo e veja de que maneira Roseana Murray escolhe e combina palavras para produzir com elas um dia de paz.

#### Nova rotação

Em meu caderno de poesia fabrico o dia inteiro de paz. A guerra jaz no baú das idéias mortas, e a Terra toda ondula em dança lenta mais leve e azul, inaugura uma nova rotação como um botão de uma flor desconhecida.

Todos saem às ruas com suas sombrinhas salpicadas de arco-íris e embrulham seus pães com a palavra amor.

MURRAY, Roseana. Fábrica de poesias. São Paulo: Scipione,

2008. p. 10.

**jazer:** estar ou parecer morto.  
**inaugurar:** fazer uso de algo pela primeira vez.  
**rotação:** movimento giratório

a- Como você imagina que seja um dia assim? Escreva o que poderia acontecer num dia inteiro de paz.

---

---

---

"A Educação é o melhor caminho para construir um futuro melhor"

5° ANO



NOME: \_\_\_\_\_

PROFESSOR (A): \_\_\_\_\_

### QUESTÃO 01

Leia os quadrinhos e marque a opção correta.



Leandro Robles. Folha de S.Paulo, São Paulo, 29 nov. 2003. Folhinha, p. F8.

A expressão "o bicho está pegando" significa que

- (A) As coisas estão bem.
- (B) O animal (bicho adversário) está realmente conseguindo pegar as bolas lançadas.
- (C) Tudo está de acordo como o personagem da tirinha esperava.
- (D) Está tudo muito tranquilo.

### QUESTÃO 02

Leia o texto abaixo e responda.

Um garoto foi ao zoológico. Passou em frente à jaula do leão e leu a placa: "Cuidado! Leão perigoso!" Passou em frente à jaula do tigre e viu outra placa: "Cuidado! Tigre perigoso!". Aí passou por uma jaula vazia, com uma placa em que estava escrito: "Cuidado! Tinta fresca!". O garoto olhou, olhou e saiu correndo, gritando:

— Socorro, socorro! Tinta fresca fugiu!

Fonte: Meu primeiro livro de piadas. Angela Finzetto. Blumenau: Todolivro.

"A Educação é o melhor caminho para construir um futuro melhor"

5° ANO



NOME: \_\_\_\_\_

PROFESSOR (A): \_\_\_\_\_

### QUESTÃO 01

Observe o abaixo e responda às questões:

**Aviso importante a equipe feminina de vôlei!**

**Amanhã dia 19/12 não haverá treino, mas toda equipe está convocada para comparecer ao centro de esportes à partir das 13h30min.**

**Profº João Lopes**

**1. O texto que você leu tem por finalidade:**

- (A) Informar.
- (B) Criticar.
- (C) Ensinar.
- (D) Dar instruções.

**2. O texto apresenta:**

- (A) Remetente e destinatário.
- (B) Somente remetente.
- (C) Somente destinatário.
- (D) Nenhum dos dois.

**3. "Amanhã não "haverá" aula ...". A palavra destacada no texto é um verbo que está.**

- (A) No presente.
- (B) No passado.
- (C) No futuro.
- (D) Não lembro.



"A Educação é o melhor caminho para construir um futuro melhor"

5° ANO



NOME: \_\_\_\_\_

PROFESSOR (A): \_\_\_\_\_

### QUESTÃO 01

#### A escola do Marcelo

A minha escola, quer dizer, a escola não é minha, mas é a escola onde eu estudo, fica perto da minha casa.

Eu, o Cata, o Beto e a Aninha vamos juntos para a escola.

A Aninha ainda está no pré. Eu e o Cata estamos no 4º ano. Nossa professora chama Márcia.

Na escola a gente vai aprender. Mas, principalmente, a gente vai para aprender a pensar.

*(Ruth Rocha, do livro A escola do Marcelo)*

a) Qual o título e autor do texto?

\_\_\_\_\_

b) Quantos parágrafos há no texto? \_\_\_\_\_

### QUESTÃO 02

1) Escreva os substantivos derivados das palavras abaixo:

a) pedra \_\_\_\_\_ c) laranja \_\_\_\_\_

b) terra \_\_\_\_\_ d) papel \_\_\_\_\_

2) Escreva o substantivo primitivo para cada palavra abaixo:

a) cafezal \_\_\_\_\_ b) canavial \_\_\_\_\_

c- Na frase "**Certa manhã**, um fazendeiro descobriu que sua gansa tinha posto um ovo de ouro", a expressão grifada dá ideia de:

- (A) causa.            (B) lugar.            (C) modo.            (D) tempo.

**QUESTÃO 02**

Itatiba: a cidade que nasceu às margens do Rio Atibaia



Foi no \_\_\_\_\_ de Jundiaí, nos seus limites com \_\_\_\_\_ Vilas de Atibaia, Bragança e Campinas, que teve início a história da ocupação e posterior fundação da cidade de Itatiba. Até meados do século XVIII (por volta de 1750), esta área não era ainda ocupada pelo homem, mas isso não significa que ela fosse \_\_\_\_\_. Desde os anos de 1700, o Rio Atibaia já era utilizado para a navegação, servindo como meio de transporte para pessoas e mercadorias entre uma vila e outra. Aos poucos, portanto, o nosso território foi sendo "descoberto", conhecido e reconhecido pelos povos de Atibaia, Bragança e \_\_\_\_\_.

Disponível em: <http://www.itatiba.sp.gov.br/Sobre-Itatiba/historia.html>

**a- Marque o conjunto de palavras, escritas corretamente, que completam de forma mais adequada as lacunas do texto:**

- (A) teritório, atigas, desconhecida, Gundiaí.  
(B) teritório, amtigas, desconhecida, Jundiaí.  
(C) território, antigas, desconhecida, Jundiaí.  
(D) território, antigas, descoecida, Gundiaí.

**b- Marque abaixo a alternativa em que todas as palavras estão escritas corretamente.**

- (A) refrijerante, girar, inteligente, ginástica.  
(B) refrigerante, girar, inteligente, ginástica.  
(C) refrigerante, jirar, inteligente, ginástica.  
(D) refrijerante, girar, inteligente, jinástica.

**C- Escreva um parágrafo contando um pouco sobre nossa cidade" RODEIRO".**

---

---

---

---

---

---

---

---

---

---

**QUESTÃO 03**

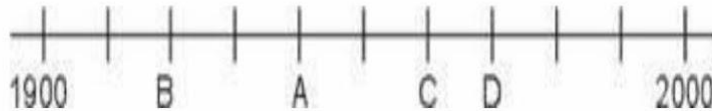
A população de Corumbá, no Mato Grosso do Sul, é de 95.704 habitantes. O número de pessoas que moram em Corumbá escrito por extenso é:

---

---

**QUESTÃO 04**

Uma professora da 4ª série pediu que uma aluna marcasse numa linha do tempo o ano de 1940.



Que ponto a aluna deve marcar para acertar a tarefa pedida? \_\_\_\_\_

**QUESTÃO 05**

Um garoto completou 231.960 bolinhas de gude em sua coleção. Esse número é composto de \_\_\_\_\_ classes, \_\_\_\_\_ ordens.

**QUESTÃO 06**

A professora de João pediu para ele decompor um número e ele fez da seguinte forma:  $4 \times 1000 + 3 \times 10 + 5 \times 1$

Qual é o número? \_\_\_\_\_

**QUESTÃO 07**

Uma merendeira preparou 592 pães que foram distribuídos igualmente em 8 cestas. Quantos pães foram colocados em cada cesta?

R \_\_\_\_\_

**QUESTÃO 08**

Um fazendeiro tinha 285 bois. Comprou mais 2 dúzias bois e depois vendeu 135 deles. Quantos bois esse fazendeiro tem agora?

R \_\_\_\_\_



**QUESTÃO 09**

Leia reportagem

"O Conselho Fiscal do Clube de Regatas do Flamengo, no uso das atribuições definidas pelo artigo 115 do Estatuto, em reunião pede análise das Demonstrações Financeiras em 31 de dezembro de 2018, as quais incluem o Balanço Patrimonial.

Veja mais em <https://esporte.uol.com.br/futebol/ultimas-noticias/lancepress/2019/04/03/balanco-do-flamengo-veja-alguns-pontos-importantes-do-documento.htm?cmpid=copiaecola>

Reescreva o texto substituindo os números decimais por números romanos.

---

---

---

---

---

---

---

---

---

---

**QUESTÃO 10**

Descubra a sequência numérica e continue até 23 498.

23 408 - 23 418 - 23 428 -

---

---

---

---

**b- Reescreva o parágrafo abaixo, sobre "O destino do Lixo", separando as palavras corretamente.**

COMOCRESCIMENTOPOPULACIONALNOBRASILNASÚLTIMASDÉCADAS,PRINCIPALMENTENOSGRANDESCENTROSURBANOS,ODESTINODOLIXOTORNOU-SEUMGRANDEPROBLEMAAMBIENTAL.

**QUESTÃO 03**

**O TAXISTA**

Uma turista pega um táxi no aeroporto para ir ao hotel. O motorista parece mudo, pois não diz uma palavra sequer. Então a mulher toca nas costas dele para pedir uma informação:

\_ Por favor...

Ele leva um grande susto, perde o controle do carro e quase provoca um acidente. A turista se desculpa:

\_ Sinceramente, não sabia que o senhor ficaria tão assustado!

\_ Desculpe-me, senhora. É minha primeira viagem como taxista.

\_ Por 20 anos fui motorista de carro funerário.

**a- O humor do texto está no trecho**


- (A) "Uma turista pega um taxi".
- (B) "Ele leva um grande susto, perde o controle do carro".
- (C) "Por 20 anos fui motorista de carro funerário".
- (D) "É minha primeira viagem como taxista".

**b- Complete o quadro retirando palavras do texto "O taxista".**

<b>VERBOS</b>			
<b>DÍGRAFOS</b>			
<b>ENCONTROS CONSONANTAIS</b>			

#### QUESTÃO 04

Na lanchonete, você pode escolher entre 4 tipos de pães para seu sanduíche: pão de fôrma, pão francês, pão sírio e pão preto. Você pode escolher também 5 tipos de recheio: mortadela, queijo, presunto, peito de peru ou peito de frango. De quantas maneiras diferentes você pode pedir seu sanduíche com apenas um recheio?



Resposta: \_\_\_\_\_

#### QUESTÃO 05

Ronaldo tem 4 camisas e 3 bermudas. De quantas maneiras diferentes Ronaldo pode se vestir usando sempre uma bermuda e uma camiseta?



Resposta: \_\_\_\_\_

#### QUESTÃO 06

Dona Josefa vende bolas de sorvete em sua casa. ela oferece 6 sabores aos seus clientes: chocolate, morango, uva, creme, limão e flocos. Geralmente seus clientes pedem duas bolas. Quantas combinações de duas bolas é possível fazer com esses sabores de sorvete?

Resposta: \_\_\_\_\_

#### QUESTÃO 07

Carlos segura um bastão de 2 metros de comprimento, como mostra a figura abaixo.

A altura aproximada de Carlos é:

- (A) menor que 80 centímetros. (B) entre 51 e 130 centímetros.  
(C) entre 131 e 180 centímetros. (D) maior que 180 centímetros.



D) a irmã entrou em seu sonho e falou.

**c. O texto A chata e as baratas foi escrito para**

A) explicar por que as crianças sonham.

B) ensinar que irmãos não devem brigar.

C) contar uma história divertida.

**d- A frase — ACORDA, VAMOS BRINCAR! , escrita em letras maiúsculas e o ponto de exclamação (!) mostram que Andréia estava:**

A) assustada. B) nervosa. C) triste. D) animada.

**e- No texto tem uma passagem em que a autora tenta fugir, mas algo não permite. O que aconteceu para ele não conseguir a fuga?**

A) as baratas sobem no pé dela.

B) a irmã chata aparece.

C) as pernas não obedecem.

D) foi quando todos os bichos começaram a se manifestar ao mesmo tempo.

**f- As frases destacada no texto representam a fala:**

A) do narrador.

B) de Andréia.

C) de um dos bichos.

D) da mãe das crianças

**g- Dê outro final para a história substituindo os dois últimos parágrafos.**

---

---

---

---

---

---

---

---

---

---

**QUESTÃO 02**

Resolva as operações e escreva por extenso os resultados.

a-  $34\ 987 + 345 + 239 =$

b-  $5\ 897 + 7\ 623 + 28 =$

c-  $9\ 000 - 3\ 567 =$

d-  $35\ 073 - 8\ 765 =$

A \_\_\_\_\_

b- \_\_\_\_\_

c- \_\_\_\_\_

D- \_\_\_\_\_

**QUESTÃO 04**

Resolva as operações

a-  $34\ 086 \times 7 =$

b-  $76\ 214 \times 46 =$

c-  $2\ 970 : 5 =$

d-  $34\ 209 : 8 =$



**QUESTÃO 03**

**Copie do texto:**

3 palavras com encontro vocálico:

--	--	--

3 palavras com encontro consonantal

--	--	--

3 palavras com dígrafo

--	--	--

**QUESTÃO 04**

Identifique a frase em que a expressão **“de cabeça para baixo”** está em sentido figurado.

- ( ) O mundo parece ter virado de cabeça para baixo.
- ( ) O livro estava de cabeça para baixo.

**QUESTÃO 05**

**Complete com a gente ou nós:**

- a) \_\_\_\_\_, quase perdeu a aula.
- b) \_\_\_\_\_, saímos bem atrasados de casa.
- c) Quando \_\_\_\_\_ chegou, a aula havia começado.

**QUESTÃO 06**



Antônio plantou duas fileiras com 5 árvores em cada uma. Veja uma das fileiras plantadas por Antônio:

Quantas árvores Antônio plantou no total das 8 fileiras?  
R \_\_\_\_\_



**QUESTÃO 07**

Dona Maria tem 18 balas para repartir entre suas 03 filhas. Cada uma ficou com a mesma quantidade de balas.

Quantas balas cada uma ganhou?

- A) 09
- B) 06
- C) 03
- D) 05

**QUESTÃO 02**

Observe abaixo as moedas que Lucas ganhou de seu tio.



Ele trocou essas moedas por uma única nota. Qual é a nota que Lucas recebeu nessa troca?



**QUESTÃO 03**

Carlos verificou pelo computador que a distância de sua casa até a casa de seu avô é de 2 km. Qual é a distância, em metros, da casa de Carlos até a casa de seu avô?

R \_\_\_\_\_

**QUESTÃO 04**

**QUESTÃO 03**

Dos 95 contatos do celular de Carla, 45 são de familiares e o restante, de amigos. Quantos contatos de amigos ela tem registrado em seu celular?

- A) 95
- B) 50
- C) 45
- D) 40

b-São poucas as palavras que rimam no poema "Nova rotação". Escreva abaixo as palavras que formam pares com: paz:\_\_\_\_\_ rotação:\_\_\_\_\_ flor:\_\_\_\_\_

### QUESTÃO 02

Releia os versos abaixo: [...]

      Todos saem às ruas

com suas sombrinhas    salpicadas

      de arco-íris

[...]

No quadro abaixo faça um desenho representando a estrofe acima.



### QUESTÃO 03

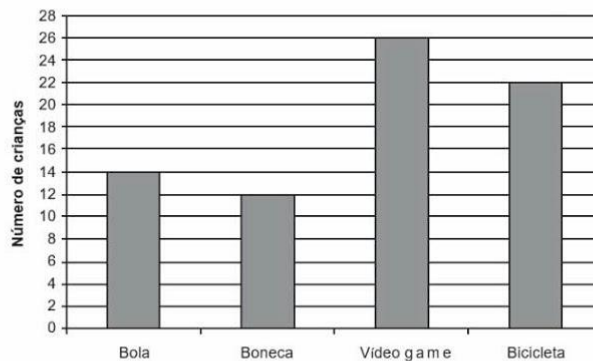
Miguel mora na cidade de Campinas-SP há 5 anos. Há quantos meses Miguel mora nessa cidade?

- A) 5 meses.                    B)12 meses.  
C)50 meses.                  D)60 meses.

**QUESTÃO 04****Observe o gráfico:**

O gráfico abaixo representa a pesquisa realizada em uma escola para saber o brinquedo preferido pelos estudantes;

De acordo com esse gráfico, qual é o número de estudantes que preferem brincar de bicicleta?



- A)12      B)14      C)22      D)26

**QUESTÃO 05****Encontre o resultado de :**

a- Laura comprou um vestido que custou 98 reais. Quantos reais custou esse vestido de Laura? R \_\_\_\_\_

b- Observe o número 9409. Qual é a ordem ocupada pelo algarismo 4 nesse número?

R \_\_\_\_\_

c- Pedro foi a uma partida de futebol de seu time favorito. Ele comprou o ingresso com duas semanas de antecedência. Pedro comprou esse ingresso com quantos dias de antecedência? R \_\_\_\_\_

d-Paulo comprou 36 embalagens de refrigerantes com uma dúzia de garrafas em cada uma. Quantas garrafas de refrigerante ele comprou? R \_\_\_\_\_

e)

Observe a conta abaixo.

83 x 100
----------

Qual é o resultado dessa conta? R \_\_\_\_\_

Qual o assunto do texto?

- (A) Animais que fugiram do zoológico. (B) A fuga do tigre.  
(C) Zoológico não é lugar de criança. (D) O passeio ao zoológico.

### QUESTÃO 03

Leia os textos e responda as questões abaixo.

#### Texto 1

Vende-se uma casa encantada no topo da mais alta montanha. Tem dois amplos salões onde você poderá oferecer banquetes para os duendes e anões que moram na floresta o lado.

Tem jardineira nas janelas

Onde convém plantar margaridas.

Tem quartos de todas as cores

Que aumentam ou diminuem

De acordo com o seu tamanho E na garagem há vagas Para todos os seus sonhos.

Roseana Murray. Classificados poéticos.  
São Paulo: Companhia Ed. Nacional, 2004.

Os dois textos anunciam

- (A) a venda de uma casa de boneca.  
(B) a venda de casas com salões e jardineiras nas janelas.  
(C) a venda de casas com dormitórios, sala e cozinha.  
(D) a venda de casas.

#### Texto 2

**VENDE-SE CASA**  
Mobiliada, 1m², 2 dorms. c/ arms., sala, cozinha, escritório, exc. negócio, R\$ 150,00. Tratar c/ Mariana: (11) 3224-4000.

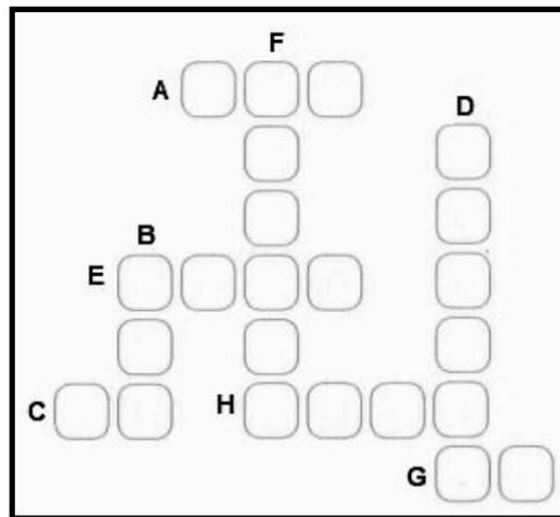
CLASSIFICADOS. AGORA TAMBÉM NA FOLHINHA  
A Folha agora tem tudo que interessa às crianças: brinquedos, games, buffet infantil, piscinas, moda e muito mais. Assim, fica fácil encontrar o que elas procuram. Classificados Folha. Tudo solado, na Folha.

Folha de S. Paulo, São Paulo, 2/12/2006. Suplemento Folha

QUESTÃO 04

# Cruzadinha

- a)  $900 + 30 + 8 =$
- b) Maior número natural par de 3 ordens =
- c) 3 dezenas + 18 unidades =
- d)  $400\ 000 + 90\ 000 + 600 + 20 + 8 =$
- e) Antecessor de 9 550 =
- f) Trezentos e setenta e oito mil, quatrocentos e seis =
- g) Sucessor de oitenta e três =
- h) 6 unidades de milhar + 5 centenas + 4 dezenas + 2 unidades =



QUESTÃO 05

Leia a informação e responda:

Em 2008, no Brasil, segundo dados do IBGE, foram produzidas  
**24 253** toneladas de castanha de caju.



De acordo com a quantidade de toneladas de castanha de caju produzidas, responda:

- A) O algarismo 5 representa quantas dezenas? \_\_\_\_\_ E quantas unidades? \_\_\_\_\_  
B) Quais são os algarismos da classe das unidades simples? \_\_\_\_\_  
C) Qual é o valor posicional do algarismo 4? \_\_\_\_\_  
D) Quais são os valores posicionais do algarismo 2? \_\_\_\_\_ e \_\_\_\_\_  
E) Qual é o algarismo que tem valor posicional 50? \_\_\_\_\_  
F) Quais são os valores posicionais do algarismo 3? \_\_\_\_\_ e \_\_\_\_\_

#### QUESTÃO 06

Em uma sorveteria, havia 1800 picolés. Ao final do dia, verificou-se que haviam sido vendidos 182 picolés de chocolate.

Quantos picolés de chocolate ainda não foram vendidos?



#### QUESTÃO 07

a- Marina compra camisetas para revender. Ela comprou um lote de 62 camisetas por R\$ 992,00. Quantos reais Marina pagou em cada camiseta desse lote.

R \_\_\_\_\_

b- Um parque de diversões arrecadou, em um único dia, 12 512 reais apenas com a venda de ingressos a preço único. Se cada visitante pagou 36 reais, quantas pessoas visitaram o parque nesse dia?

R \_\_\_\_\_

**QUESTÃO 02**

1)Escreva por extenso os números abaixo:

a)851.527=\_\_\_\_\_

\_\_\_\_\_

b)376.825.465=\_\_\_\_\_

\_\_\_\_\_

c)36.879=\_\_\_\_\_

\_\_\_\_\_

d)73.546.970\_\_\_\_\_

\_\_\_\_\_

e)9.493.574=\_\_\_\_\_

\_\_\_\_\_

2)Escreva quatro números utilizando esses algarismos **5, 7, 9**.

R: \_\_\_\_\_

3)Observe a sequência e responda as questões abaixo:

**80,81,82,83,84,85,86,87,88,89,90,91...**

a) Qual é o sinal de pontuação que indica uma sequência infinita?

R: \_\_\_\_\_

b)Escreva os três primeiros números, após a sequência acima?

R: \_\_\_\_\_

5)Decompnha:

a)345=3 centenas, 4 dezenas e 5 unidades;  $300+40+5$

b)7.085.306=\_\_\_\_\_

\_\_\_\_\_

c) 456 789 065\_\_\_\_\_

\_\_\_\_\_

d-123 513

\_\_\_\_\_



c)avicultor \_\_\_\_\_ d)geladeira \_\_\_\_\_

3)Escreva uma sentença (frase)com o grupo das palavras abaixo:

a) (pedra,laranja) \_\_\_\_\_

\_\_\_\_\_

c)(cafezal, canavial) \_\_\_\_\_

\_\_\_\_\_

4)Escreva 3 substantivos da cada:

a)Comum \_\_\_\_\_ b)Próprio \_\_\_\_\_

c)Primitivo \_\_\_\_\_ d-Derivado \_\_\_\_\_

e)Abstrato \_\_\_\_\_ f)Concreto \_\_\_\_\_

g)Simples \_\_\_\_\_ h)Composto \_\_\_\_\_

i)Coletivo \_\_\_\_\_

#### QUESTÃO 03

Para uma temporada curta, chegou à cidade o circo Fantasia, com palhaços, mágicos e acrobatas. O circo abrirá suas portas ao público às **9 horas** e ficará aberto durante **9 horas e meia**. A que horas o circo fechará?

( ) 16h30 ( ) 17h30 ( ) 17h45 ( ) 18h30

#### QUESTÃO 04

Um garoto completou **1.960** bolinhas de gude em sua coleção. Esse número é composto por:

- ( ) 1 unidade de milhar, 9 dezenas e 6 unidades.
- ( ) 1 unidade de milhar, 9 centenas e 6 dezenas.
- ( ) 1 unidade de milhar, 60 unidades.
- ( ) 1 unidade de milhar, 90 unidades.

#### QUESTÃO 05

Dois amigos colecionam bolas de gude. João tem 17 bolinhas e Paulo tem 25. Quantas bolas de gude os dois têm juntos?

( ) 17. ( ) 25. ( ) 32. ( ) 42.

"A Educação é o melhor caminho para construir um futuro melhor"

5° ANO



NOME: \_\_\_\_\_

PROFESSOR (A): \_\_\_\_\_

**QUESTÃO 01**

**Produção de texto**

Você lembra-se de algum fato da sua vida em que, depois de enfrentar uma situação difícil, você aprendeu uma lição que jamais esquecerá?

Que tal você escrever essa história?

Se você não viveu nenhuma situação assim, pode contar uma história que aconteceu com um amigo ou que você ouviu alguém contar. Lembre que a história tem que ter um desfecho surpreendente, emocionante.

\_\_\_\_\_

\_\_\_\_\_

\_\_\_\_\_

\_\_\_\_\_

\_\_\_\_\_

\_\_\_\_\_

\_\_\_\_\_

\_\_\_\_\_

\_\_\_\_\_

\_\_\_\_\_

\_\_\_\_\_

\_\_\_\_\_

\_\_\_\_\_

\_\_\_\_\_

\_\_\_\_\_

\_\_\_\_\_

\_\_\_\_\_

\_\_\_\_\_


\_\_\_\_\_

\_\_\_\_\_

\_\_\_\_\_

\_\_\_\_\_

\_\_\_\_\_



**QUESTÃO 02**

Resolva as expressões abaixo:

a)  $18 : 2 \times 5 + 6 - 4 =$

b)  $240 : 3 + 5 - 19 =$

c)  $270 : 9 - 3 + (11 + 25 \times 2) =$

d)  $(640 - 50 \times 8) : 6 - 32 =$

e)  $3 + (16 - 4 \times 3) - 6 : 2 =$

f)  $78 : 2 + (9 \times 5) - 33 =$

g)  $2 \times (7 - 4) - 12 : 3 + 25 =$

h)  $15 + 3 \times 7 - 2 \times 3 + 8 : 2 =$

"A Educação é o melhor caminho para construir um futuro melhor"

5° ANO



NOME: \_\_\_\_\_

PROFESSOR (A): \_\_\_\_\_

### QUESTÃO 01

#### **A Bela Adormecida**

Quando a princesa Aurora nasceu, o rei e a rainha fizeram uma festa para o seu batizado e convidaram todas as fadas do reino. Cada fada presenteou a princesa com um dom: beleza, bondade, alegria, inteligência e amor.

De repente, apareceu a bruxa Malévola, furiosa por não ter sido convidada para a festa.

Disse para a rainha:

- Quando a princesa completar quinze anos espetará o dedo no fuso de uma roca e morrerá!

A fada Flora, que ainda não havia dado o seu presente conseguiu modificar o feitiço da malévola, dizendo:

- A princesa não morrerá, dormirá um sono profundo até que o beijo de um príncipe a desperte.

O rei ordenou que todas as rocas do reino fossem destruídas. E pediu que as fadas protegessem a princesa.

A princesa crescia feliz, cada vez mais bela e amorosa.

No dia do seu aniversário de quinze anos ela resolveu dar um passeio sozinha.

Andando pelo palácio, encontrou uma escada que levava para a velha torre, subiu e lá encontrou uma roca.

Aproximou-se curiosa e ao tocá-la espetou seu dedo no fuso da roca e caiu num sono profundo.

No mesmo instante todos no castelo adormeceram. Com o tempo, uma imensa floresta cresceu ao redor do castelo.

Muitos anos depois, um príncipe de um país vizinho, que ouvira falar da história da bela adormecida, resolveu então encontrar este castelo.

Corajoso, o príncipe atravessou a floresta e achou o castelo. Entrou, e espantado viu que todos dormiam, até os animais.

Subiu a escada da torre e encontrou a princesa.

Em uma cama de ouro, dormia a mais linda jovem que ele tinha visto. O príncipe ficou apaixonado e aproximando-se dela beijou –a.

No mesmo instante, a princesa Aurora despertou e com ela todo o reino. Poucos dias depois, a princesa Aurora e o príncipe se casaram e foram felizes para sempre.

Fábulas de ouro

1)Qual é o título do texto?

---

2)Quais são os personagens do texto?

---

---

3)Por que Malévola não foi convidada para a festa?

---

---

4)Como Malévola se sentiu por não ter sido convidada? E qual foi a reação dela?

---

---

5)Uma fada mudou o feitiço da bruxa. Qual o nome dela e qual foi a mudança que ela fez no feitiço?

---

---

6)O que aconteceu quando a princesa espetou o dedo?

---

7)Como a princesa foi salva?

---

8)Quantos parágrafos existem no texto?\_\_\_\_\_