



Nome: _____ Data: ____/____/____

Atividade de Matemática

Um estudante de 10 anos resolveu fazer uma pesquisa com seus amigos em uma rede social (através da internet) para descobrir quais atividades eles mais têm feito em suas casas durante o isolamento social. Cada pessoa indicou apenas uma atividade.

1 - Observe o que ele anotou:

Tipo de atividade	Quantidade de pessoas
Assistir TV (desenhos, filmes e séries)	<input type="checkbox"/> <input type="checkbox"/> <input type="checkbox"/> <input type="checkbox"/>
Ler (livros, atividades escolares, etc)	<input type="checkbox"/> <input type="checkbox"/> <input type="checkbox"/> <input type="checkbox"/>
Brincar	<input type="checkbox"/> <input type="checkbox"/> <input type="checkbox"/> <input type="checkbox"/>
Navegar na internet (sites e redes sociais)	<input type="checkbox"/> <input type="checkbox"/> <input type="checkbox"/>

2 – Organize na tabela os dados na forma numérica e dê um título para ela.

Título: _____

Tipo de atividade	Quantidade de pessoas
Assistir TV (desenhos, filmes e séries)	
Ler (livros, atividades escolares)	
Brincar	
Navegar na internet (sites e redes sociais)	

3 – Responda:

A) Quantas pessoas participaram da pesquisa? _____

B) Qual é a atividade que as pessoas mais tem feito em casa?

C) E você, qual é a atividade que mais tem feito em casa durante o isolamento social?



Nome: _____ Data: ____/____/____

Atividade de Matemática

1) No quadro numérico abaixo estão faltando alguns números. Descubra quais são eles e complete o quadro.

2450		2452	2453		2455	2456			2459
		2462		2464		2466	2467		
2470		2472				2476		2478	2479
		2482		2484		2486		2488	
2490	2491		2493			2496			2499

Responda às questões:

A) O que há em comum nas escritas dos números da coluna azul?

B) O que há em comum nas escritas dos números da linha amarela?

2) Leia o trecho da notícia abaixo e preste atenção aos números em destaque.

Um mês após a primeira morte notificada pelo novo coronavírus no Brasil, o Ministério da Saúde confirmou ontem um novo recorde diário de óbitos, **217**, totalizando **2 141** pessoas mortas em decorrência da Covid-19. Há **33 682** casos confirmados no país, onde o índice de letalidade chegou a 6,4%.

Notícia na íntegra: <https://brasil.elpais.com/brasil/2020-04-18/ao-vivo-ultimas-noticias-sobre-o-coronavirus-no-brasil-e-no-mundo.html> - Acesso em 18.04.20

Agora, escreva como se lê os números em destaque:

217 - _____

2 141 - _____

33 682 - _____

OBSERVAÇÃO: VOCÊ PODE ESCREVER AS RESPOSTAS NO SEU CADERNO



Nome: _____ Data: ____/____/____

Atividade de Matemática

Durante a quarentena, algumas pessoas estão tendo tempo para fazer várias atividades em casa. Leia as situações abaixo e resolva os problemas:

1) Sabrina e seu irmão Sérgio decidiram arrumar os álbuns de fotografias da família. Ela organizou 148 fotografias e seu irmão conseguiu organizar 92.

No total, quantas fotografias eles organizaram?

2) No dia seguinte, Sabrina e o irmão jogaram uma partida de videogame. Ao final do jogo, ele totalizou 346 pontos e a irmã fez 278.

Quem ganhou a partida? _____

O vencedor teve quantos pontos a mais?

3) No início de um jogo, Sabrina tinha 182 figurinhas e seu irmão 155. Na primeira rodada, ela perdeu 36, mas na segunda ganhou 29.

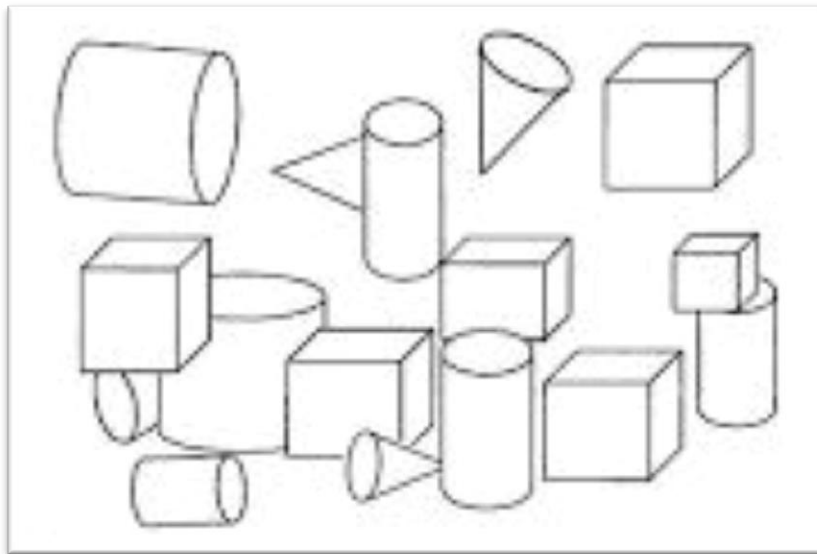
Quem terminou o jogo com mais figurinhas? _____ Com quantas?




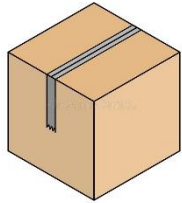


Nome: _____ Data: ____/____/____

Atividade de Matemática

1) As figuras geométricas abaixo foram colocadas em uma caixa, mas ficou uma bagunça! Você deverá organizá-las pintando os **corpos redondos (A)** de **AZUL** e os **poliedros (B)** de **VERMELHO**:



2) Observe as figuras abaixo e escreva o nome dos sólidos geométricos que elas lembram. Se necessário, consulte as atividades realizadas no material anterior.

 _____	 _____
 _____	 _____



Nome: _____ Data: ____/____/____

Atividade de Matemática

Observe o mapa com a previsão do tempo. Depois, responda as questões abaixo:



1) Uma família mora no Estado de São Paulo (SP) e viajará para o Rio Grande do Norte (RN).

A) Qual é a diferença de temperatura nesses dois estados? _____

B) A família deverá levar roupas adequados ao inverno? Por quê?

2) Eles viajaram no dia 18/04 e permanecerão naquele Estado por 8 dias. Observe o calendário e responda:

ABRIL 2020						
D	S	T	Q	Q	S	S
			1	2	3	4
5	6	7	8	9	10	11
12	13	14	15	16	17	18
19	20	21	22	23	24	25
26	27	28	29	30		

10/04 – Sexta-feira Santa 12/04 – Páscoa 21/04 – Tiradentes

Que dia a família voltará de viagem? _____

OBSERVAÇÃO: VOCÊ PODE ESCREVER AS RESPOSTAS NO SEU CADERNO