



NOME: _____ DATA: ____ / ____ / ____

ATIVIDADE DE MATEMÁTICA

OBSERVE O QUADRO DE 0 ATÉ 100.

0	1	2	3	4	5	6	7	8	9
10	11	12	13	14	15	16	17	18	19
20	21	22	23	24	25	26	27	28	29
30	31	32	33	34	35	36	37	38	39
40	41	42	43	44	45	46	47	48	49
50	51	52	53	54	55	56	57	58	59
60	61	62	63	64	65	66	67	68	69
70	71	72	73	74	75	76	77	78	79
80	81	82	83	84	85	86	87	88	89
90	91	92	93	94	95	96	97	98	99
100									

1. PINTE OS SEGUINTE NÚMEROS:

- QUAIS NÚMEROS QUE ESTÃO ENTRE 11 E O 31?
- TODOS OS NÚMEROS QUE ESTÃO ENTRE 73 E 79.
- O QUE É MAIOR DO QUE 38 E MENOR DO QUE 40?

2. DESCUBRA QUAL É O NÚMERO OCULTO.

- TEM 2 ALGARISMOS.
- É MENOR QUE 40.
- É MAIOR QUE 32.
- TERMINA COM 6.

O NÚMERO É...



<https://pt.dreamstime.com/imagens-de-stock-merina-com-ponto-de-interroga%C3%A7%C3%A3o-image25465424>

OBSERVAÇÃO: VOCÊ PODE ESCREVER AS RESPOSTAS NO SEU CADERNO




NOME: _____ DATA: ____ / ____ / ____

ATIVIDADE DE MATEMÁTICA

OBSERVE O DESENHO QUE LUANA FEZ DA RUA DE SUA CASA E LOCALIZE AS DEMAIS CASAS DE ACORDO COM AS INFORMAÇÕES ABAIXO.

- A CASA DE LUCAS FICA EM FRENTE DA CASA DE LUANA.
- A AVÓ DE LUANA MORA NA ESQUINA DE FRENTE AO PRÉDIO.
- MANUELA MORA A ESQUERDA DA CASA DE LUCAS
- JOAQUIM MORA A DIREITA DA CASA DE LUANA.



AGORA DESENHE A RUA DE SUA CASA. NÃO SE ESQUEÇA DE IDENTIFICAR OS MORADORES DAS CASAS E / OU COMERCIANTES DA RUA.


OBSERVAÇÃO: VOCÊ PODE FAZER O DESENHO E ESCREVER AS RESPOSTAS NO SEU CADERNO.




NOME: _____ DATA: ____ / ____ / ____

ATIVIDADE DE MATEMÁTICA

OBSERVE A COLEÇÃO DE BICHINHOS DE QUATRO AMIGOS E DEPOIS RESPONDA ÀS QUESTÕES.



MIGUEL



RAFAEL



LUIZ GUSTAVO



PEDRO HENRIQUE

1. REALIZE A CONTAGEM DE CADA COLEÇÃO FAZENDO AGRUPAMENTOS DE 2 EM 2.
2. QUAL DAS COLEÇÕES NÃO FOI POSSÍVEL AGRUPAR TODOS OS BICHINHOS?

3. QUAL DOS AMIGOS TEM MAIS BICHINHOS? QUANTOS?



NOME: _____ DATA: ____ / ____ / ____

ATIVIDADE DE MATEMÁTICA

NESSES DIAS DE QUARENTENA PAULO ANDRÉ FEZ UMA PESQUISA. LIGOU PARA SEUS PRIMOS, TIOS E AVÓS PARA DESCOBRIR QUAL A BRINCADEIRA PREFERIDA DA FAMÍLIA. VEJA O QUE ELE DESCOBRIU.

BRINCADEIRAS PREFERIDAS DA FAMÍLIA “SILVEIRA”	
BRINCADEIRA	TOTAL DE VOTOS
QUEIMADA	9
AMARELINHA	7
MORTO-VIVO	3
ESTÁTUA	5
PEGA-PEGA	15
ESCONDE-ESCONDE	5

1. QUAL A BRINCADEIRA PREFERIDA DA FAMÍLIA “SILVEIRA”?

2. QUAL A BRINCADEIRA MENOS VOTADA PELA FAMÍLIA?

3. QUANTOS VOTOS PEGA-PEGA TEVE A MAIS QUE QUEIMADA?



NOME: _____ DATA: ____ / ____ / ____

ATIVIDADE DE MATEMÁTICA

SEMPRE ESTAMOS COMPARANDO O TAMANHO DAS COISAS. ÀS VEZES USAMOS OS PALMOS, ÀS VEZES USAMOS OS PÉS PARA TER UMA IDEIA DO COMPRIMENTO. PORÉM, PARA TERMOS UMA MEDIDA EXATA PRECISAMOS USAR INSTRUMENTOS CONVENCIONAIS COMO A RÉGUA OU A FITA MÉTRICA PARA COISAS NÃO MUITO GRANDES.

VAMOS EXPERIMENTAR?

USANDO UMA RÉGUA OU UMA FITA MÉTRICA, QUE TAL MEDIR O COMPRIMENTO DE ALGUNS OBJETOS DE SUA CASA? FAÇA AS MEDIÇÕES E DEPOIS PREENCHA O QUADRO ANOTANDO OS RESULTADOS.

OBJETO	COMPRIMENTO MEDIDO
ALTURA CADEIRA	
ALTURA DO SOFÁ	
ALTURA DA GELADEIRA	
LARGURA DA CAMA	
LARGURA DA PORTA	

RESPONDA À QUESTÃO:

1. O QUE É MAIOR: A ALTURA DA CADEIRA OU A LARGURA DA CAMA?



PREFEITURA DO MUNICÍPIO DE BRAGANÇA PAULISTA
SECRETARIA MUNICIPAL DE EDUCAÇÃO

1	21	41	61	81
2	22	42	62	82
3	23	43	63	83
4	24	44	64	84
5	25	45	65	85
6	26	46	66	86
7	27	47	67	87
8	28	48	68	88
9	29	49	69	89
10	30	50	70	90
11	31	51	71	91
12	32	52	72	92
13	33	53	73	93
14	34	54	74	94
15	35	55	75	95
16	36	56	76	96
17	37	57	77	97
18	38	58	78	98
19	39	59	79	99
20	40	60	80	100
COLE EM A	COLE EM B	COLE EM C	COLE EM D	