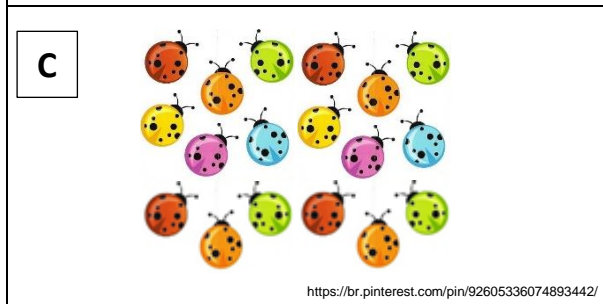




NOME: _____ DATA: ____/____/____

ATIVIDADE DE MATEMÁTICA

- VEJA OS QUADRINHOS EM QUE APARECEM AS COLEÇÕES. LIGUE CADA QUADRINHO AO NÚMERO QUE INDICA A QUANTIDADE DE DESENHOS.



32

15

30

18







OBSERVAÇÃO: VOCÊ PODE ESCREVER, NO SEU CADERNO, A LETRA QUE REPRESENTA O CONJUNTO E RELACIONÁ-LA COM O NÚMERO QUE REPRESENTA A QUANTIDADE DE OBJETOS.



NOME: _____ DATA: ____ / ____ / ____

ATIVIDADE DE MATEMÁTICA

- NOSSO QUADRO DE NÚMEROS ESTÁ AUMENTANDO. VEJA QUE ALGUNS NÚMEROS ESTÃO COBERTOS POR DESENHOS. DESCUBRA QUAIS SÃO E ESCREVA-OS ABAIXO.

0	1	2	3	4	5	6	7		9
10	11	12	13	14		16	17	18	
20	21	22	23	24	25	26		28	29
30		32	33	34	35	36	37	38	39
40	41	42	43	44	45	46		48	49
50									



- O PRÓXIMO NÚMERO DA SEQUÊNCIA ABAIXO DEVE SER:

11

13

15

17

19

OBSERVAÇÃO: VOCÊ PODE ESCREVER OS NÚMEROS QUE FALTAM NO SEU CADERNO.



NOME: _____ DATA: ____ / ____ / ____

ATIVIDADE DE MATEMÁTICA

- VAMOS ORGANIZAR O CALENDÁRIO DO MÊS DE ABRIL? COMPLETE COM OS DIAS DA SEMANA.

ABRIL DE 2020

- SABENDO QUE O MÊS DE ABRIL COMEÇOU NA QUARTA-FEIRA, COMPLETE O CALENDÁRIO COM OS DIAS.
- PINTE DE VERMELHO O DIA EM QUE FOI COMEMORADO O FERIADO DA PÁSCOA.
- O MÊS DE ABRIL TEM _____ DIAS.



NOME: _____ DATA: ____/____/____

ATIVIDADE DE MATEMÁTICA

- A TURMA DA MANUELA ESCUTOU, DURANTE OS ESTUDOS, A HISTÓRIA DE JOÃO E MARIA E RESOLVERAM FAZER UMA PESQUISA. COLETARAM, ENTRE OS AMIGOS DA SALA DE 1º ANO, QUAL O DOCE PREFERIDO DA TURMA. VEJA O RESULTADO DA PESQUISA:

DOCES PREFERIDOS DA TURMA DO 1º ANO	
DOCES PREFERIDOS	VOTOS
CHOCOLATE	15
JUJUBA	6
PIRULITO	4
BOMBOM	5

FONTE: ESCOLA MUNICIPAL

- QUAL O DOCE PREFERIDO DA TURMA DO 1º ANO?

- QUAL O DOCE QUE RECEBEU MENOS VOTOS?

- QUANTOS VOTOS A JUJUBA RECEBEU A MAIS QUE O BOMBOM?

OBSERVAÇÃO: VOCÊ PODE ESCREVER AS RESPOSTAS NO SEU CADERNO.



NOME: _____ DATA: ____/____/____

ATIVIDADE DE MATEMÁTICA

- NESTA QUARENTENA JOÃO ANOTOU A IDADE DE TODOS OS SEUS PRIMOS E DESCOBRIU ALGUMAS CURIOSIDADES. OBSERVE AS IMAGENS E RESPONDA AS QUESTÕES PARA DESCOBRIR TAMBÉM:



MARIA
12 ANOS



LILICA
7 ANOS



PEDRO
23 ANOS



JÚLIA
5 ANOS



LUCAS
5 ANOS



JOÃO
8 ANOS

QUANTOS PRIMOS DE JOÃO TÊM MAIS DE 6 ANOS?

HÁ PRIMOS COM 5 ANOS? QUANTOS SÃO?

QUANTOS PRIMOS DE JOÃO TÊM MENOS DE 10 ANOS?



NOME: _____ DATA: ____ / ____ / ____

ATIVIDADE DE MATEMÁTICA

- ANOTE O SEU NOME E A SUA IDADE E TAMBÉM DAS PESSOAS QUE MORAM COM VOCÊ.

NOME	IDADE
NOME	IDADE
NOME	IDADE
NOME	IDADE
NOME	IDADE
NOME	IDADE
NOME	IDADE

OBSERVAÇÃO: VOCÊ PODE ESCREVER AS RESPOSTAS NO SEU CADERNO.