



GOVERNO DO ESTADO DO AMAZONAS
Secretaria de Estado de Educação e Qualidade do Ensino
Departamento de Políticas e Programas Educacionais
Gerência de Ensino Fundamental



ANA

**AVALIAÇÃO NACIONAL
DA ALFABETIZAÇÃO**

II SIMULADO 2015

MATEMÁTICA

3° ANO ENSINO FUNDAMENTAL

NOME:

TURMA:

TURNO:

II SIMULADO ANA 2015

INSTRUÇÕES

- Leia com atenção antes de responder e marque suas respostas neste caderno.
- **CADA QUESTÃO TEM UMA ÚNICA RESPOSTA CORRETA.** Marque apenas a opção que você escolher como certa.
- Use lápis preto para marcar as resposta. Assim, se você se enganar, pode apagar e marcar novamente.
- Procure responder a todas as questões.

EXEMPLO

Veja as xícaras que a mãe de Ana ganhou e colocou em sua cozinha.





Quantas xícaras a Mãe de Ana tem na sua cozinha?

- (A) 4
- (B) 5
- (C) 6
- (D) 7

QUESTÃO 1

Lucas pesou seus animais. O gato pesou 3 quilos e o coelho 2 quilos.

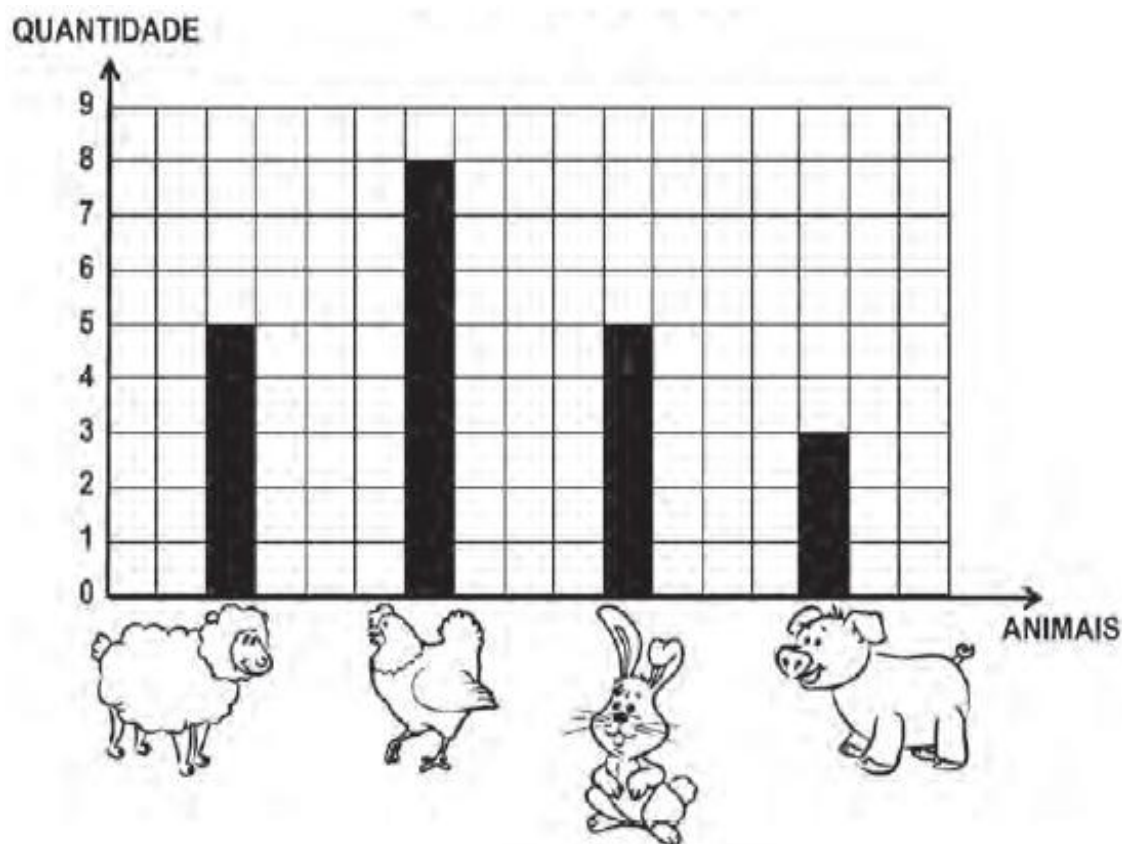


Os dois animais juntos pesaram

- (A) 7 quilos
- (B) 5 quilos
- (C) 3 quilos
- (D) 1 quilos

QUESTÃO 2

Lucilene tem um sítio onde cria várias espécies de animais.



De acordo com o gráfico, o animal que Lucilene tem em maior quantidade no sítio é:

- (A) Ovelhas.
- (B) Galinhas.
- (C) Coelhos.
- (D) Porcos.

QUESTÃO 3

Veja a quantidade de dinheiro que Aline juntou para comprar uma revistinha.




A quantidade de dinheiro que Aline juntou foi:

- (A) 2 reais
- (B) 3 reais
- (C) 4 reais
- (D) 5 reais

QUESTÃO 4

Veja as bonecas que Nilza tem em sua coleção.




Nilza gostaria de separar sua coleção de bonecas em grupinhos de 10. Então ela terá a seguinte quantidade:

- (A) 1 dezena e 3 unidades
- (B) 2 dezenas e 3 unidades
- (C) 3 dezenas e 2 unidades
- (D) 4 dezenas e 2 unidades

QUESTÃO 5

Observe a figura:



A distância entre as duas setas na figura é de:

- (A) 9 cm.
- (B) 10 cm.
- (C) 11 cm.
- (D) 12 cm.

QUESTÃO 6

Observe as figuras abaixo:



A figura que lembra uma esfera é:

- (A) A bola.
- (B) A lata.
- (C) O dado.
- (D) O cone.

QUESTÃO 7

No conjunto de casas de um bairro próximo, os moradores estão pintando os seus números, sempre usando número par. Ajude-os a completar a tarefa.



- (A) 53
- (B) 58
- (C) 61
- (D) 63

QUESTÃO 8

Observe o quadro abaixo:

	A	B	C	D
4				
3				
2				
1				

A forma geométrica que está na posição **2B** é:

- (A) O quadrado.
- (B) O triângulo
- (C) O retângulo
- (D) O círculo

QUESTÃO 9

O macaquinho Xico comeu cinco bananas. Outro macaquinho mais guloso comeu o dobro de bananas que Xico comeu.

Quantas bananas o macaquinho guloso comeu?

- (A) 5
- (B) 7
- (C) 10
- (D) 15

QUESTÃO 10

Veja abaixo as camisas de uniforme da seleção brasileira:



As camisas foram entregues para os jogadores em ordem crescente.

A ordem de entrega foi:

- (A) 7 – 10- 5 – 1
- (B) 1 – 5 – 7 – 10
- (C) 1 – 7 – 5 – 10
- (D) 10 – 7 – 5 – 1

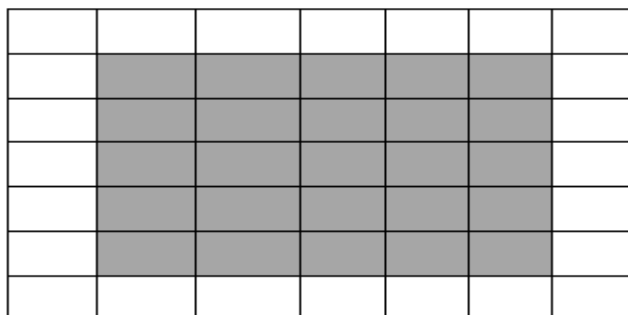
QUESTÃO 11

A mãe de Jocildo comprou tecido para fazer sua calça de uniforme. O instrumento utilizado para medir o tecido foi:

- (A) litro
- (B) balança
- (C) fita métrica
- (D) termômetro

QUESTÃO 12

Observe a piscina que Edson quer construir no quintal de sua casa. Cada quadrado escuro representa um azulejo do fundo da piscina.



Quantos azulejos são necessários para cobrir o fundo da piscina?

- (A) 25
- (B) 27
- (C) 10
- (D) 20

QUESTÃO 13

Observe o calendário do mês de fevereiro de 2013.

CALENDÁRIO DE FEVEREIRO



DOM	SEG	TER	QUA	QUI	SEX	SÁB
					1	2
3	4	5	6	7	8	9
10	11	12	13	14	15	16
17	18	19	20	21	22	23
24	25	26	27	28		

Em 2013, o carnaval foi comemorado no dia 12 de fevereiro. O dia da semana que aconteceu o carnaval foi:


- (A) Domingo.
- (B) Segunda-feira.
- (C) Terça-feira.
- (D) Quarta-feira.

QUESTÃO 14

O relógio ao lado mostra o horário que começa a aula de educação física da turma do 2º ano.

A aula de educação física começa às

- (A) 10 horas
- (B) 9 horas
- (C) 8 horas
- (D) 7 horas



QUESTÃO 15

Simara pediu um x-salada, batata frita e um suco.


x-SALADA	5 REAIS		
REFRIGERANTE	2 REAIS		
BATATA FRITA	3 REAIS		
SUCO	2 REAIS		
CACHORRO-QUENTE	4 REAIS		

O lanche de Simara custou:

- (A) 8 reais
- (B) 9 reais
- (C) 10 reais
- (D) 11 reais

QUESTÃO 16

Eriberto, Lucas, Aline e Francisco gostam de brincar de pular obstáculos. A figura abaixo mostra a altura que eles conseguem pular.



A criança que pulou mais alto é

- (A) Eriberto
- (B) Lucas
- (C) Aline
- (D) Francisco

QUESTÃO 16

Perpétua viu o número ao lado e tinha que escrevê-lo por extenso.

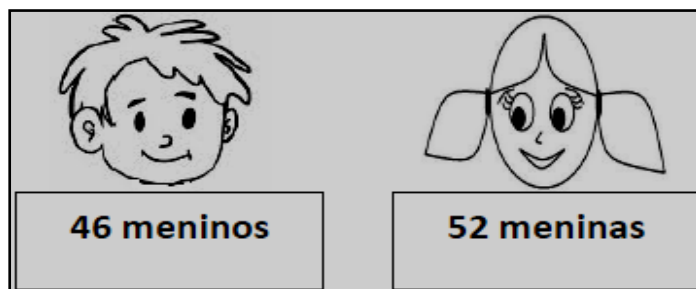
A maneira correta que Perpétua deveria escrever este número é:

- (A) Trinta e Dois.
- (B) Vinte e Três.
- (C) Três e Dois.
- (D) Dois e Três.



QUESTÃO 17

Na festa de Flor haviam



O total de crianças que estavam na festa é de:

- (A) 6
- (B) 46
- (C) 52
- (D) 98

QUESTÃO 18

Na creche sonho encantado a professora Hiléia pesquisou as brincadeiras preferidas pelos alunos.


BRINCADEIRAS PREFERIDAS	
BRINCADEIRA	TOTAL
QUEIMADA	5
AMARELINHA	7
MORTO-VIVO	8
ESTÁTUA	9
PEGA-PEGA	10

A brincadeira preferida pelos alunos é:

- (A) morto - vivo
- (B) pega – pega
- (C) queimada
- (D) estátua

QUESTÃO 19

Em uma caixa de lápis de cor têm 6 lápis.

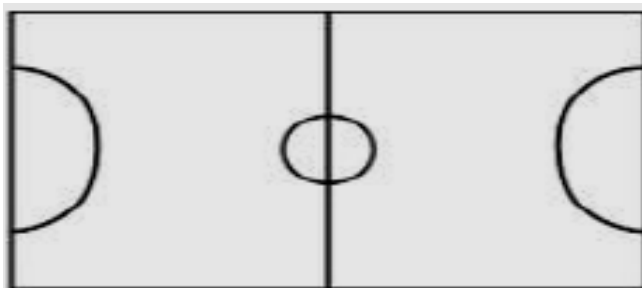


Em 3 caixas terão quantos lápis?

- (A) 6
- (B) 9
- (C) 12
- (D) 18

QUESTÃO 20

Observe o campo de futebol de botão que Kleitson ganhou de presente de aniversário.



A forma desse campo é:

- (A) quadrado.
- (B) retângulo.
- (C) triângulo.
- (D) losango.

FONTE

<https://jucienbertoldo.files.wordpress.com/2013/09/modelo-de-aval-diag-mat-3c2ba-ano-ef.pdf>
<http://profwarles.blogspot.com/2013/10/ana-avaliacao-nacional-de-alfabetizacao.html>

