
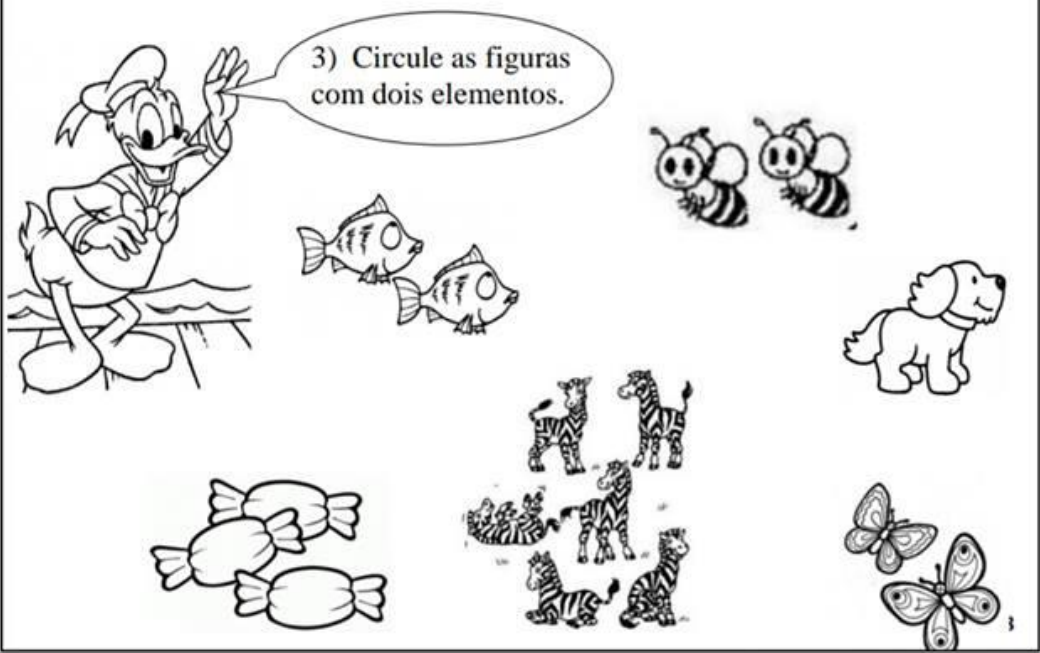


2) Observe e cubra o numeral 2.



3) Quantos patinhos? Escreva o numeral dentro do quadrinho:





4) Continue o exercício abaixo:

2 2 2 2 2 2 2 2

2 2 2


5) Pinte os conjuntos onde há 2 elementos:




6) Vamos contar:



7) Quantas frutas há em cada fruteira? Escreva o numeral no quadrinho:



8) Desenhe a quantidade de bolinhas que se pede em cada conjunto:



1



2



0

9) Agora faça sozinho.

0 → .....

1 → .....

2 → .....

# Numeral 2

Em seguida, observamos  
o numeral que vem depois.  
Parece um patinho!  
Adivinhem! É o 2.

(Música: Ciranda, cirandinha)

Eu tenho  
dois bonés.

2 dois



1) Cubra os pontilhados e continue escrevendo o numeral 2.

2 2 2 2 2 2 2 2

2 2 2

2

2