

Aluno(a): _____

Professora: _____ Data: ____/____/____ **5° ANO** _____

1) Ana Luísa iniciou a leitura de um livro às 7 horas da manhã. Após ler alguns capítulos, parou para descansar por 30 minutos. Depois reiniciou a leitura e a terminou às 10 horas da manhã. Quanto tempo ela levou lendo o livro?

- A) 2 horas
- B) 2 horas e meia
- C) 3 horas
- D) 3 horas e meia

2) Qual é o maior número que você pode escrever usando algarismos **8, 9, 1, 5 e 7** sem repeti-los?

- A) 91.875
- B) 98.715
- C) 98.751
- D) 97.851

3) Eduardo fez esta multiplicação, mas apagou o resultado.

$$\begin{array}{r} 425 \\ \times 3 \\ \hline \end{array}$$

Faça você também a conta. Qual deve ser o resultado?

- A) 1.265
- B) 1.275
- C) 1.295
- D) 1.375

4) Faltam 28 dias para o aniversário de João. Quantas semanas completas faltam para o aniversário dele?

- A) 3
- B) 4
- C) 5
- D) 6

5) Adriana vai fazer esta subtração: $6790 - 38$. O resultado dessa operação será:

- A) 6.768
- B) 6.752

C) 6.758

D) 3.190

6) A tabela mostra o total de visitantes na cidade de Londrina durante as estações do ano. Qual foi a estação do ano com o maior número de visitantes?

Estações do ano	Total de visitantes (aproximadamente)
Verão	1.148
Outono	1.026
Inverno	1.234
Primavera	1.209

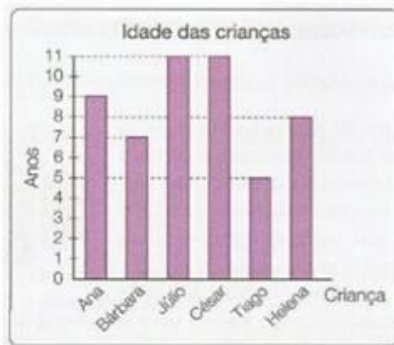
A) Inverno

B) Outono

C) Primavera

D) Verão

7) Observe o gráfico que mostra a idade de algumas crianças: Quantas crianças têm menos do que 8 anos?



A) 6

B) 4

C) 3

D) 2

8) O desenho a seguir apresenta o mapeamento das carteiras dos alunos em uma sala de aula. Observe o desenho e assinale a alternativa correta. Filas:

1ª	2ª	3ª	4ª	5ª
Cintia	Silvio	Carmem	Davi	Adriano
Lucia	Nelson	Paulo	Renato	Michele
Julia	Cleuza	Maria	Eduarda	Mirian

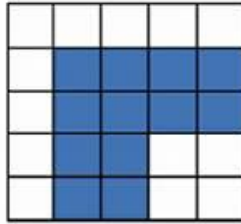
A) Paulo está sentado na terceira carteira da 2ª fila.

B) Lucia está sentada três carteiras antes de Michele.

C) Cleuza está na 3ª fila sentada duas carteiras antes de Davi.

D) Davi está na 4ª fila e Adriano está sentado ao seu lado na 5ª fila.

9) Paulo está colocando lajotas no piso da garagem de sua casa. A figura mostra o piso da garagem e, em tom mais escuro, a área que já foi revestida.



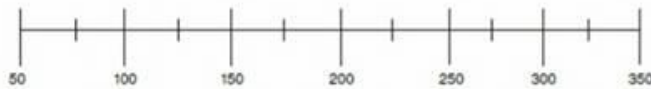
Quantas lajotas ainda deverão ser colocadas para cobrir todo o piso da garagem

- A) 12
B) 13
C) 25
D) 34

10) Em um circo há 2314 lugares. Quantas centenas possui esse número?

- A) 3
B) 23
C) 300
D) 2 314

11) Murilo pretende localizar na reta numérica o número 220.



Ele pensou e chegou à conclusão correta de que esse número está entre:

- A) 50 e 100
B) 150 e 200
C) 200 e 250
D) 250 e 300

12) Uma merendeira preparou 668 pães que foram distribuídos igualmente em 4 cestas. Quantos pães foram colocados em cada cesta?

- A) 168
B) 142
C) 167
D) 142

13) Numa adição, as parcelas são 45.099; 742; 6.918 e 88. Qual é o valor da soma?

A) 44.357

B) 47.439

C) 52.847

D) 114.279

14) A população de Corumbá, no Mato Grosso do Sul, é de **95.704** habitantes. O número de pessoas que moram em Corumbá escrito por extenso é:

A) Noventa e cinco mil setecentos e quatro habitantes

B) Noventa e cinco mil e setenta e quatro habitantes

C) Noventa e cinco mil, setecentos e quarenta habitantes

D) Noventa e cinco mil e setenta e quarenta habitante