

ESCOLA: _____

SONDAGEM INICIAL – Língua portuguesa

PROFª _____ 1º ANO _____ DATA: ___/___/___

1- ESCREVA SEU NOME COMPLETO: (ESCREVER O PRÓPRIO NOME)

2- ESCREVA AS LETRAS DO ALFABETO QUE A PROFESSORA IRÁ DITAR: (RECONHECER AS LETRAS DO ALFABETO)

3- PRESTE ATENÇÃO AO DITADO DE PALAVRAS: (ESCREVER E DEMONSTRAR A HIPÓTESE DE ESCRITA)

FRASE: _____

4- CANTE A CANTIGA JUNTO COM SUA PROFESSORA. APÓS, PINTE AS PALAVRAS QUE A PROFESSORA DITAR: (ACIONAR ESTRATÉGIAS DE LEITURA)



BORBOLETINHA ESTÁ NA COZINHA
FAZENDO CHOCOLATE PARA A MADRINHA
POTI, POTI, PERNA DE PAU,
OLHO DE VIDRO E NARIZ DE PICA-PAU
PAU, PAU!

5- EM QUE PARTE DA CASA A BORBOLETINHA ESTAVA FAZENDO SEU CHOCOLATE? (ACIONAR ESTRATÉGIAS DE LEITURA)

MADRINHA COZINHA BORBOLETINHA



6- MARQUE A LETRA INICIAL DO DESENHO: (CONSCIÊNCIA FONOLÓGICA: ASSOCIAR O SOM À GRAFIA DA LETRA)

C
 M
 O



R
 A
 S



ESCOLA: _____

SONDAGEM INICIAL – Língua portuguesa

PROFª _____ 2º ANO _____ DATA: ___/___/___

NOME: _____



1- MARQUE O NOME DO DESENHO (CONSCIÊNCIA FONOLÓGICA: ASSOCIAR O SOM À GRAFIA DAS PALAVRAS)



CASTANHA

CASTELO

CARAMELO

2- PRESTE ATENÇÃO AO DITADO DE PALAVRAS: (ESCREVER E DEMONSTRAR A HIPÓTESE DE ESCRITA)

FRASE: _____

3- MARQUE A FRASE QUE REPRESENTA A IMAGEM: (ACIONAR ESTRATÉGIAS DE LEITURA)



BRANCA DE NEVE JOGOU A MAÇÃ.

BRANCA DE NEVE CORTOU A MAÇÃ.

BRANCA DE NEVE COMEU A MAÇÃ.

4- ESCREVA A CANTIGA "A CANOA VIROU": (PRODUZIR DIFERENTES TIPOS DE TEXTO COM AUTONOMIA)



SONDAGEM INICIAL – MATEMÁTICA

NOME: _____ 2º ANO _____

- 1- FAÇA UM X NO QUADRADINHO QUE REPRESENTA A QUANTIDADE DE SAPATINHOS (ASSOCIAR A DENOMINAÇÃO DO NÚMERO À SUA REPRESENTAÇÃO SIMBÓLICA)



15

20

25

- 2- PRESTE ATENÇÃO AO DITADO DE NÚMEROS DA PROFESSORA: (ESCRITAS NUMÉRICAS)

- 3- CINDERELA E O PRÍNCIPE VÃO SE CASAR! OBSERVE O CALENDÁRIO E RESPONDA: (INTERPRETAR E LOCALIZAR INFORMAÇÕES EM CALENDÁRIOS)

Março 2018						
Domingo	Segunda-feira	Terça-feira	Quarta-feira	Quinta-feira	Sexta-feira	Sábado
				1	2	3
4	5	6	7	8	9	10
11	12	13	14	15	16	♥
18	19	20	21	22	23	24
25	26	27	28	29	30	31

1- QUAL A DATA DO CASAMENTO? _____

2- O DIA DO CASAMENTO CAIRÁ EM QUE DIA DA SEMANA? _____

3- QUANTOS DIAS TEM O MÊS DE MARÇO?

- 4- SITUAÇÕES-PROBLEMA:

A RAINHA MALVADA COLHEU 19 MAÇÃS PARA ENVENENAR E ENTREGAR PARA A BRANCA DE NEVE, MAS 8 APODRECERAM. QUANTAS RESTARAM? (RESOLVER SITUAÇÕES- PROBLEMA COM OS SIGNIFICADOS DE SEPARAR E RETIRAR QUANTIDADES)

5- OS SETE ANÕES ENCONTRARAM 17 DIAMANTES NO PERÍODO DA MANHÃ NA MINA E 6 NO PERÍODO DA TARDE. QUANTOS DIAMANTES ENCONTRARAM AO TODO? (RESOLVER SITUAÇÕES- PROBLEMA COM OS SIGNIFICADOS DE JUNTAR E ACRESCENTAR QUANTIDADES)



SONDAGEM INICIAL – MATEMÁTICA

NOME: _____ 1º ANO _____

1- PRESTE ATENÇÃO AO DITADO DE NUMERAIS: (PRODUZIR ESCRITAS NUMÉRICAS)

<input type="text"/>	<input type="text"/>	<input type="text"/>	<input type="text"/>	<input type="text"/>	<input type="text"/>	<input type="text"/>
----------------------	----------------------	----------------------	----------------------	----------------------	----------------------	----------------------

2- OBSERVE OS ANIMAIS E MARQUE A QUANTIDADE CORRETA: (QUANTIFICAR E ASSOCIAR O NÚMERO À SUA REPRESENTAÇÃO SIMBÓLICA)

	<input type="checkbox"/> 6		<input type="checkbox"/> 3
	<input type="checkbox"/> 8		<input type="checkbox"/> 9
	<input type="checkbox"/> 4		<input type="checkbox"/> 5

3- SITUAÇÕES-PROBLEMA:





O URSO PIMPÃO TEM 6 POTES DE MEL E GANHOU MAIS 3 DE SEU AMIGO. COM QUANTOS POTES DE MEL ELE FICOU? (RESOLVER SITUAÇÕES-PROBLEMA – ADIÇÃO)

<input type="text"/>	
----------------------	--

NO JARDIM, HAVIA 9 ABELHINHAS, MAS 4 VOARAM PARA LONGE. QUANTAS ABELHINHAS RESTARAM? (RESOLVER SITUAÇÕES-PROBLEMA – SUBTRAÇÃO)

<input type="text"/>	
----------------------	---

OBSERVE O DESENHO E MARQUE A FORMA GEOMÉTRICA QUE O REPRESENTA. (IDENTIFICAR FIGURAS GEOMÉTRICAS)

	<input type="checkbox"/> 
	<input type="checkbox"/> 
	<input type="checkbox"/> 
	CAPRICHE!
	