


NOME: \_\_\_\_\_  
DATA: \_\_\_\_\_ PROFESSORA: \_\_\_\_\_

### **O GALINHEIRO DO SENHOR MATIAS**

SENHOR MATIAS TEM EM SEU QUINTAL UM PEQUENO GALINHEIRO. ELE RECOLHE TODAS AS MANHÃS OS OVOS DAS GALINHAS PARA PODER ORGANIZÁ-LOS PARA VENDER.

MUITAS PESSOAS COMPRAM OVOS DO SENHOR MATIAS. ELE OS VENDE POR DÚZIA OU MEIA DÚZIA.

1. DESCUBRA QUANTOS OVOS ELE RECOLHEU HOJE, NUMERANDO OS OVOS:



2. COMPLETE AS INFORMAÇÕES ABAIXO:

- **UMA DÚZIA** É COMPOSTA POR \_\_\_\_\_ OVOS.

- **MEIA DÚZIA** É COMPOSTA POR \_\_\_\_\_ OVOS.

3. PARA SE ORGANIZAR MELHOR, CONTORNE OS OVOS DO **EXERCÍCIO 1**, SEPARANDO-OS POR DÚZIA. A CADA DÚZIA CONTORNADA, MUDE A COR QUE VOCÊ ESTIVER USANDO.

SENHOR MATIAS RECOLHEU \_\_\_\_\_ DÚZIAS DE OVOS.



### PAR OU ÍMPAR

4. QUANDO VOCÊ COMPRA SAPATOS, VÊM O PÉ DIREITO E O PÉ ESQUERDO, OU SEJA, DOIS. ESTE NÚMERO É PAR OU ÍMPAR?

\_\_\_\_\_



5. AO PEDIR UMA DÚZIA DE OVOS, VOCÊ ESTÁ USANDO UMA QUANTIDADE PAR OU ÍMPAR? \_\_\_\_\_

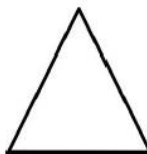


6. A QUANTIDADE DE LETRAS QUE HÁ NO ALFABETO É PAR OU ÍMPAR? \_\_\_\_\_



7. O NÚMERO DE LADOS DE UM TRIÂNGULO É PAR OU ÍMPAR?

\_\_\_\_\_



8. LÚCIA, ANA, RAFAEL, MARLI E PEDRO ESTÃO DANÇANDO EM UMA FESTA DE ANIVERSÁRIO. A QUANTIDADE DE PESSOAS MENCIONADAS É PAR OU ÍMPAR? \_\_\_\_\_



© Can Stock Photo - csp5616091

9. NA ORDEM EM QUE AS CRIANÇAS ESTÃO DANÇANDO LUCIA OCUPA O PRIMEIRO LUGAR, A MARLI OCUPA QUE LUGAR?

- ( ) PRIMEIRO LUGAR (1º)
- ( ) SEGUNDO LUGAR (2º)
- ( ) TERCEIRO LUGAR (3º)
- ( ) QUARTO LUGAR (4º)
- ( ) QUINTO LUGAR (5º)



10. O ANIVERSÁRIO DE RAFAEL É DIA **23 DE DEZEMBRO**. OLHE O CALENDÁRIO E DIGA EM QUAL DIA DA SEMANA VAI SER COMEMORADO SEU ANIVERSÁRIO:

- ( ) SEGUNDA - FEIRA
- ( ) QUARTA - FEIRA
- ( ) SÁBADO
- ( ) DOMINGO
- ( ) SEXTA - FEIRA



Dezembro de 2012						
DOMINGO	SEGUNDA	TERÇA	QUARTA	QUINTA	SEXTA	SÁBADO
						1
2	3	4	5	6	7	8
9	10	11	12	13	14	15
16	17	18	19	20	21	22
23	24	25	26	27	28	29
30	31	25 - Natal				

11. PARA A FESTA DE ANIVERSÁRIO A MÃE DE RAFAEL VAI COMPRAR **45 BRIGADEIROS** E **35 BEIJINHOS**. QUANTOS DOCES VÃO TER NO TOTAL?

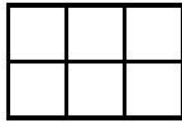


D	U
□	□
□	□

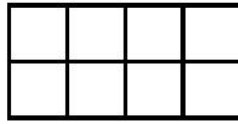
12. NA FESTA TINHA 50 COXINHAS AS CRIANÇAS COMERAM 25. QUANTAS COXINHAS SOBRARAM?

D	U
□	□
□	□

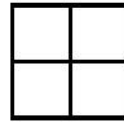
13. ANALU VENDE DOCES PERTO DE SUA CASA. ELA VISITA AS PESSOAS PARA OFERECÊ-LOS. DESCUBRA QUANTAS CASAS ELA JÁ VISITOU. CONTE AS CASAS DE CADA QUARTEIRÃO REPRESENTADAS POR QUADRADINHOS, UTILIZANDO A MULTIPLICAÇÃO:



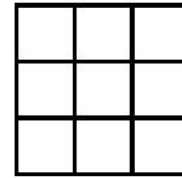
$$\_ \times \_ = \_$$



$$\_ \times \_ = \_$$



$$\_ \times \_ = \_$$



$$\_ \times \_ = \_$$

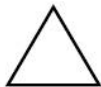


PRAÇA DOS CÁLCULOS – TOTAL DE CASAS VISITADAS

14. LIGUE O NOME À FIGURA GEOMÉTRICA:



QUADRADO



TRIÂNGULO



CÍRCULO



RETÂNGULO

PINTE O DESENHO DE ACORDO COM A LEGENDA:

TRIÂNGULO = VERMELHO  
 CÍRCULO = AMARELO  
 RETÂNGULO = AZUL  
 QUADRADO = VERDE

