



**ESCOLA ESTADUAL CORONEL CRUZ**  
**1º ANO DO I CICLO - AVALIAÇÃO DE GEOGRAFIA - 2º BIMESTRE**

Aluno(a):

Turma: 03

Turno:

Professora: Hudenice Nogueira Mota

Data: \_\_\_\_ / \_\_\_\_ /2017

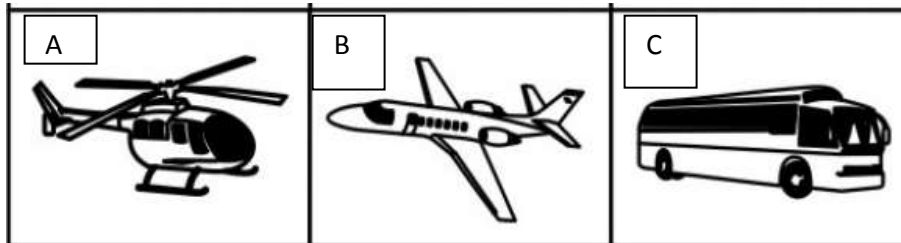
**CONCEITOS:** Meios de Transporte e Trânsito.

**QUESTÃO 01**

OS MEIOS DE TRANSPORTE SÃO UTILIZADOS QUANDO AS PESSOAS PRECISAM IR DE UM LUGAR PARA OUTRO. ELES PODEM SER: TERRESTRES, AÉREOS E AQUÁTICOS.


OS VEÍCULOS QUE CIRCULAM NAS RUAS, NOS TRILHOS, NOS CAMINHOS DE TERRA, NAS ESTRADAS, SÃO CHAMADOS DE MEIOS DE TRANSPORTE TERRESTRE:

-MARQUE SOMENTE O MEIO DE TRANSPORTE TERRESTRE: (1,0)



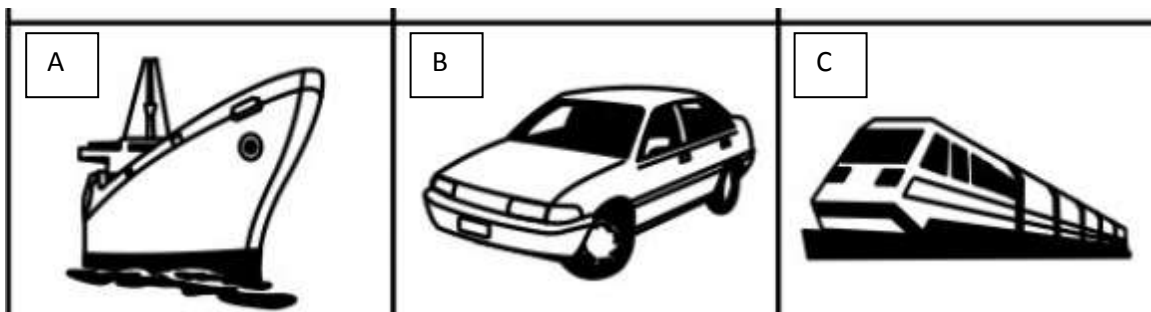
**QUESTÃO 02**

O AVIÃO E O HELICÓPTERO SE MOVIMENTAM DE UM LUGAR PARA OUTRO PELO AR. ELES SÃO CHAMADOS DE MEIOS DE TRANSPORTE AÉREO. SENDO ASSIM, MARQUE O MEIO DE TRANSPORTE AÉREO:(1,0)



**QUESTÃO 03**



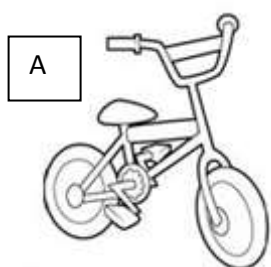
O NAVIO, O BARCO, A CANOA, A LANCHAS, SÃO MEIOS DE TRANSPORTE AQUÁTICOS. MARQUE O MEIO DE TRANSPORTE QUE CIRCULA PELA ÁGUA: (1,0)



**QUESTÃO 04**

DIARIAMENTE, AS PESSOAS UTILIZAM VÁRIOS MEIOS DE TRANSPORTE. POR ISSO, É NECESSÁRIO QUE AS CIDADES OFEREÇAM TRANSPORTE COLETIVO EFICIENTE E SEGURO AOS SEUS HABITANTES.

MARQUE O MEIO DE TRANSPORTE COLETIVO: (0,5)



**QUESTÃO 05**

OS MEIOS DE TRANSPORTE, ALÉM DE LEVAR PESSOAS DE UM LUGAR PARA OUTRO, ELAS SERVEM TAMBÉM PARA LEVAR MERCADORIAS. QUAIS OS MEIOS DE TRANSPORTE UTILIZADOS PARA LEVAR GRANDE QUANTIDADE DE CARGAS E MERCADORIAS? (0,5)



**ÔNIBUS.**



**MOTOCICLETA.**



**CAMINHÃO.**

**QUESTÃO 06**

A MAIORIA DOS MEIOS DE TRANSPORTE POLUEM O MEIO AMBIENTE COM A FUMAÇA QUE SAI DE SEUS MOTORES. MAS EXISTEM MEIOS DE TRANSPORTE QUE SÓ NECESSITAM DA FORÇA DO HOMEM OU DO VENTO. MARQUE O MEIO DE TRANSPORTE QUE NÃO CAUSA DANOS À NATUREZA:



**QUESTÃO 07**

AS REGRAS DE TRÂNSITO SERVEM PARA ORIENTAR TANTO O CONDUTOR DO VEÍCULO QUANTO PARA ORIENTAR O PEDESTRE. ESTAS REGRAS SÃO LEGAIS E AS AUTORIDADES EXIGEM QUE TODOS AS CONHEÇAM PARA ORGANIZAR O TRÂNSITO.

QUAL É O PROFISSIONAL QUE AJUDA NA SINALIZAÇÃO DAS RUAS USANDO APITO E GESTOS? (0,5)

A) ( ) FAIXA DE SEGURANÇA

B) ( ) GUARDA DE TRÂNSITO

C) ( ) PLACA DE TRÂNSITO

**QUESTÃO 08**

NA RUA HÁ VÁRIOS SINAIS QUE AJUDAM NA ORGANIZAÇÃO DO TRÂNSITO. QUAL O NOME DO SINAL QUE UTILIZA LUZES COLORIDAS PARA ORIENTAR O PEDESTRE E OS VEÍCULOS? (0,5)

A) ( ) PLACAS DE TRÂNSITO

B) ( ) SEMÁFORO

C) ( ) FAIXA DE PESTERSTRE

**QUESTAO 09**

**QUAL É O NOME DO GRUPO DE LISTRAS LARGAS E BRANCAS QUE SÃO PINTADAS NO ASFALTO? (0,5)**

A) ( ) SEMÁFORO

B) ( ) PLACAS DE TRÂNSITO

B) ( ) FAIXA DE PEDESTRES


**QUESTÃO 10**

**EXISTEM SINAIS PARA OS VEÍCULOS E TAMBÉM PARA O PEDESTRE. NA FIGURA ABAIXO OS CARROS ESTÃO PARADOS. OBSERVE A CENA E PINTE CORRETAMENTE A COR DO SINAL QUE ESTÁ SENDO VISUALIZADA PELO MOTORISTA, NO SEMÁFORO:(0,10)**



**QUESTÃO 11**

**OBSERVE A IMAGEM ABAIXO:**



**OS CARROS ESTÃO PASSANDO. DE QUE COR ESTÁ O SEMÁFORO? (1,0)**

A) ( ) VERMELHO

B) ( ) AMARELO

C) ( ) VERDE

**QUESTÃO 12**

**AS LEIS DE TRÂNSITO DEVEM SER RESPEITADAS POR PEDESTRES, PASSAGEIROS E MOTORISTAS, POIS CONTRIBUEM PARA A SEGURANÇA DE TODOS.**

**CIRCULE O DESENHO QUE INDICA O QUE É CORRETO NO TRÂNSITO: (0,5)**



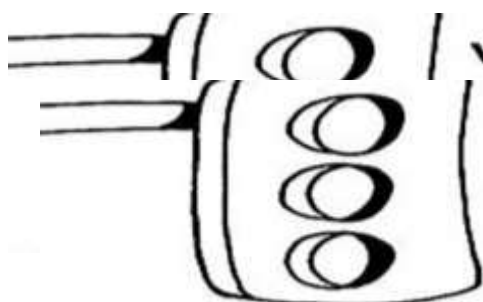
**QUESTÃO 13**

**AS PLACAS DE TRÂNSITO SERVEM PARA ORIENTAR OS MOTORISTAS E OS PEDESTRES. MARQUE A PLACA QUE INDICA O QUE É ÁREA ESCOLAR: (0,5)**



**QUESTÃO 14**

**UM SEMÁFORO É COMPOSTO POR TRÊS CORES, CADA COR TEM SEU SIGNIFICADO. PINTE O SEMÁFORO PARA VEÍCULOS E LIGUE CORRETAMENTE: (0,5)**



**VERMELHO**  
**VERMELHO**  
**AMARELO**  
**VERDE**

**ATENÇÃO**  
**ATENÇÃO**  
**PODE PASSAR**  
**PARE!**

**QUESTÃO 15**

**AS PLACAS DE TRÂNSITO SÃO IMPORTANTES PARA AS PESSOAS, POIS AJUDAM O PEDESTRE A ATRAVESSAR A RUA COM SEGURANÇA. OBSERVE AS IMAGENS ABAIXO E PINTE AQUELA QUE INDICA QUE PODEMOS ATRAVESSAR A RUA. (0,5)**

