

Escola: _____

Data: _____ Turma: _____

SOESCOLA.COM

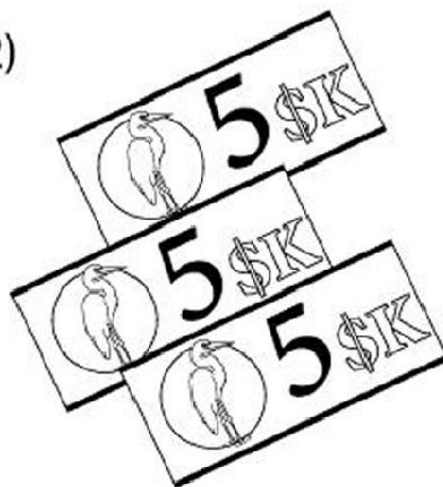
Aluno: _____

Quais grupos de notas correspondem
a vinte reais? Circule as opções!

1)



2)



3)



4)



Escola: _____

Data: _____ Turma: _____

SOESCOLA.COM

Aluno: _____



O DINHEIRO QUE USAMOS

É preciso ter dinheiro para se comprar alguma coisa.
No Brasil, a moeda que usamos é o **real**.
O símbolo do real é o **R\$**.

- Observe as moedas e seus valores:

					
um centavo	cinco centavos	dez centavos	vinte e cinco centavos	cinquenta centavos	um real

- Agora, observe as cédulas:



um real



vinte reais



dois reais



cinquenta reais



cinco reais



cem reais



dez reais



Escola: _____

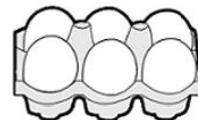
Data: _____ Turma: _____

SOESCOLA.COM

Aluno: _____

ATIVIDADES DE MATEMÁTICA

1) DESCUBRA QUAL O TROCO QUE DONA SANDRA IRÁ RECEBER AO PAGAR AS COMPRAS:



	1 KG FEIJÃO	1 KG ARROZ	1 LITRO DE LEITE	MEIA DÚZIA DE OVOS
VALOR	R\$ 6,00	R\$ 9,00	R\$ 3,00	R\$ 2,00
PAGAMENTO	R\$ 10,00	R\$ 20,00	R\$ 5,00	R\$ 2,00
OPERAÇÃO	10 - 6	___ - ___	___ - ___	___ - ___
TROCO	R\$ 4,00			

2) FAÇA UMA PESQUISA E DESCUBRA O PREÇO DE CADA UM DESSES PRODUTOS QUE COMPRAMOS NO SUPERMERCADO.

PRODUTO	VALOR UNIDADE	VALOR 3 UNIDADES
 ACHOCOLATADO		
 LATA DE ÓLEO		
 1 KG DE FEIJÃO		
 1 LITRO DE LEITE		
 PÃO FRANCÊS		

Escola: _____

Data: _____ Turma: _____

SOESCOLA.COM

Aluno: _____

DESPESAS DA FAMÍLIA

• Observe:

Mês agosto despesas

Aluguel.....	R\$ 450,00
Supermercado.....	R\$ 170,00
Luz.....	R\$ 54,00
Condomínio.....	R\$ 80,00
Telefone.....	R\$ 76,00
Escola.....	R\$ 300,00
Diversos.....	R\$ 180,00



Faça você

- Qual a maior despesa dessa família? _____
- Qual é a menor? _____
- Qual é o gasto total em aluguel, condomínio, telefone e supermercado?

- Com R\$ 800,00 por mês consegue-se pagar essa despesa? _____

Cálculos:

Escola: _____

Data: _____ Turma: _____

Aluno: _____

Sistema Monetário

1 – Marcia faz sabonetes artesanais. Veja o cartaz que ela elaborou.



Compre 3 sabonetes por apenas **R\$ 5,00!**
<http://www.farmaciasguacu.com.br>

Se uma pessoa comprar 18 sabonetes, ela pagará R\$ _____.



Vamos pensar...

GRUPO	PREÇO
3	5,00
6	10,00
9	15,00
12	20,00
15	25,00
18	30,00

Se 3 sabonetes custam 5 reais, para saber o preço de 18 sabonetes, precisamos saber quantos grupos de 3 sabonetes há em 18.

$18 \div 3 =$ _____

Então,

sabonetes

3

$18 = 6 \times 3$

preço

5

$6 \times 5 =$ _____

2 – Uma doceira gasta 2 quilos de açúcar para preparar 7 bolos. No mês passado, ela preparou 28 bolos. Quantos quilos de açúcar ela gastou?

Solução



Accesse www.educopedia.com.br
1º ano - Matemática



3 -Observe as quantias, em dinheiro, de Marcos e Fábio.

a) Marcos: R\$ _____



b) Fábio: R\$ _____



c) Qual a diferença de valores entre os dois?

Solução:

Cálculo:

C	D	U

d) A metade da quantia de Marcos é R\$ _____

C	D	U	C	D	U

e) Um terço da quantia de Fábio é R\$ _____

C	D	U	C	D	U

f) O valor da quantia que os dois possuem juntos é

R\$ _____

Escola: _____

Data: _____ Turma: _____

SOESCOLA.COM

Aluno: _____

É REAL!

Observe quanto de dinheiro Tarcísio e Cida têm:



Responda:

Quanto tem Tarcísio?

Quanto tem Cida?

Juntos, quanto eles têm?

Quem tem a maior quantidade?

Quanto falta a cada um para ter a mesma quantidade?

Escola: _____

Data: _____ Turma: _____

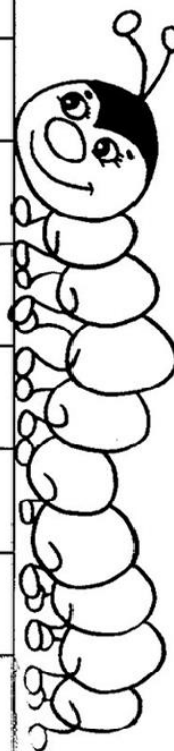
SOESCOLA.COM

Aluno: _____

FAZENDO COMPRAS

Vários alunos da sala 8 foram ao bazar beneficente da escola para fazer compras. Complete o quadro com os valores que faltam.

Nome do aluno	Pagou com:	Valor da compra	Recebeu de troco
Carlos	Uma nota de 10 reais.	3 reais e 40 centavos	
Luana	Quatro moedas de 25 centavos		20 centavos
Pedro	Uma nota de 5 reais.	2 reais e 75 centavos	
Joana	Três moedas de 50 centavos	1 real e 15 centavos	
Rita	Uma nota de 2 reais.		1 real e 20 centavos
Celso	Duas moedas de 1 real.		80 centavos
Marco	Uma nota de 1 real.	25 centavos	
Laura	Uma nota de 5 reais.		2 reais e 90 centavos
Bruno	Uma nota de 20 reais.	7 reais e 30 centavos	



Respostas: Carlos: R\$ 6,60; Luana: R\$ 0,80; Pedro: R\$ 2,25; Joana: R\$ 0,35; Rita: R\$ 0,80; Celso: R\$ 1,20; Marco: R\$ 0,75; Laura: R\$ 2,10; Bruno: 12,70.

Escola: _____

Data: _____

Turma: _____

SOESCOLA.COM

Aluno: _____

LINGUAGEM FINANCEIRA



Abatimento ou desconto
É a redução, o que se paga menos ao efetuar o pagamento.

Multa
É o que se paga a mais fora do prazo combinado.



Vencimento
É o prazo em que se deve pagar uma dívida.



Imposto
É uma contribuição que se paga ao Estado ou município sobre imóveis, rendas, etc.

Lucro
É o ganho ou vantagem na compra ou troca de um produto.



Prejuízo
Perda ou desvantagem na compra ou troca de um produto.

Taxa
Remuneração paga por serviços que o Estado presta, como juros, multas, impostos, tributos.



Comissão
É a porcentagem que o vendedor recebe sobre as vendas que efetuou.



Escola: _____























Data: _____ Turma: _____

SOESCOLA.COM

Aluno: _____

SISTEMA MONETÁRIO

Dona Mariquinha está fazendo uma liquidação na sua loja e colocou vários produtos em promoção. Pinte as notas que você precisa para fazer as compras.

 <p>R\$ 85,00</p>	     
<p>R\$ 17,00</p> 	    
<p>R\$ 35,00</p> 	   
<p>R\$ 7,00</p> 	  








Escola: _____

Data: _____ Turma: _____

SOESCOLA.COM

Aluno: _____

1- Preencha o quadro de acordo com o exemplo:

Mercadoria	Comprou por	Vendeu por	Lucro
	R\$ 1,00	R\$ 5,00	R\$ 4,00
			
			
			
			
			
			



Escola: _____

Data: _____

Turma: _____

SOESCOLA.COM

Aluno: _____

QUAL É O TROCO ?

- ☞ Paulo comprou uma bola. Ele deu uma nota de R\$ 10,00. Quanto ele recebeu de troco?



- ☞ Agora faça o mesmo, completando o quadro abaixo:

Você comprou	Deu em dinheiro	Recebeu de troco
R\$ 9,50 	R\$ 20,00	
R\$ 33,80 	R\$ 50,00	
 R\$ 159,00	R\$ 200,00	
R\$ 52,90 	R\$ 100,00	
 R\$ 41,70	R\$ 50,00	


Escola: _____

Data: _____ Turma: _____

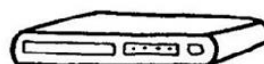
SOESCOLA.COM

Aluno: _____

FAZENDO COMPRAS




**18 X sem juros
de R\$ 68,50**



**12 X sem juros
de R\$ 33,00**



**3 X sem juros
de R\$ 113,00**



**3 X sem juros
de R\$ 59,90**



**3 X sem juros
de R\$ 14,30**

✂ Recorte, cole no caderno e resolva.

A) Simone comprou uma televisão a prazo. Quanto ela pagou?

B) Rosana comprou um liquidificador e uma torradeira em 3 pagamentos. Quanto pagará por mês? Qual é o preço do liquidificador? E o da torradeira?

C) Luiz comprou um DVD a prazo. Quanto pagará por ele?

D) Se Luiz fosse comprar o DVD à vista, teria um desconto de 15%. Quanto ele pagaria?

E) Paulo comprou uma batedeira e um liquidificador. Quanto ele pagou por mês de prestação? E qual o valor total da sua compra?

Escola: _____

Data: _____ Turma: _____

SOESCOLA.COM

Aluno: _____

- Relacione o produto à moeda equivalente ao seu preço.

25 centavos



1 centavo



5 centavos



1 real



10 centavos



50 centavos



Escola: _____

Data: _____ Turma: _____

SOESCOLA.COM

Aluno: _____

8 Beatriz está analisando o folheto de promoções do “Supermercado Variedades”, para decidir o que comprar. Responda às perguntas dela, justificando suas respostas.



Tenho R\$ 50,00 para gastar. A bandeja de Danoninho custa R\$ 2,10. Com o dinheiro que tenho, posso comprar 10 bandejas? Sobraria algum troco? Quanto?

Com a metade do dinheiro que tenho, posso comprar 6 pacotes de arroz branco de 5 kg?



Se eu for gastar todo o dinheiro que tenho comprando apenas refrigerante e bandejas de Danoninho, quantas unidades da cada poderei comprar?



Educador(a), Aproveite as atividades para discutir com os alunos as vantagens e as desvantagens das diferentes formas de pagamento: “à vista” ou “parcelada em três vezes”.

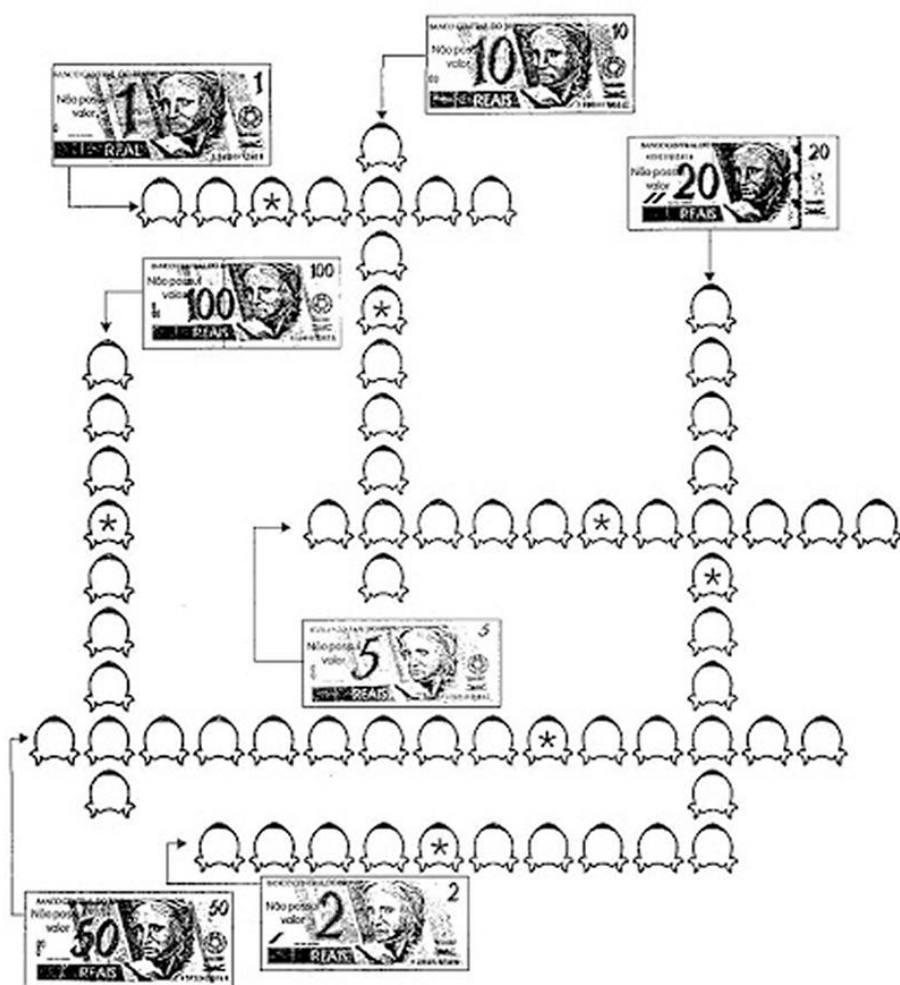
Escola: _____

Data: _____ Turma: _____

SOESCOLA.COM

Aluno: _____

CRUZA-CÉDULAS



Respostas: um real, cinco reais, dez reais, vinte reais, cinquenta reais, cem reais.

Escola: _____

Data: _____ Turma: _____

SOESCOLA.COM

Aluno: _____

ENQUANTO ESCOLHIA AS VERDURAS, A MÃE DA MAGALI PEDIU PARA ELA COMPRAR ALGUMAS FRUTAS. VAMOS AJUDAR A MAGALI A CALCULAR QUANTO ELA VAI GASTAR?

LISTA

3 MELÕES
5 DÚZIAS DE
BANANAS
12 MAÇÃS

TOTAL: ?



Escola: _____

Data: _____ Turma: _____

SOESCOLA.COM

Aluno: _____

Veja quanto eu tenho e depois escreva-os em palavras:



Escola: _____

Data: _____ Turma: _____

SOESCOLA.COM


Aluno: _____

À VISTA OU À PRAZO

Para facilitar a compra de bens, o comércio criou o crediário. Crediário significa que você pode comprar a mercadoria e pagá-la parceladamente, isto é, aos poucos. A cada mês você paga um pouco, até completar seu preço total.

Existe, porém, uma diferença no preço. Quem paga à vista, paga menos. Quem paga a prazo, paga mais, pois tem os juros cobrados sobre a mercadoria.

Veja os preços destes televisores:



TV Semp Toshiba
Garantia até 3/1/2005
À vista R\$ 429,00
10^x 56,03
1+9
Total a prazo R\$ 560,00
6,5% de juros



- a) De acordo com o anúncio, qual preço do televisor à vista? _____
- b) E o preço a prazo? _____
- c) Em até quantos pagamentos a televisão pode ser parcelada? _____
- d) Qual a diferença do preço à vista para o preço a prazo? _____
- e) Você acha mais vantajoso comprar à vista ou a prazo? _____
- Por quê? _____