



AVALIAÇÃO DIAGNÓSTICA MATEMÁTICA – 2º ANO

Escola: _____

Professor (a): _____

Aluno: _____


Data de Nascimento: ____/____/____



QUESTÃO 1



Esta é uma representação da coleção de carrinhos de Pedro Henrique. O carrinho que ele mais usa para brincar está localizado exatamente no meio da figura.



Faça um X no quadradinho que indica o número do carrinho preferido de Pedro Henrique

A) 1


B) 2

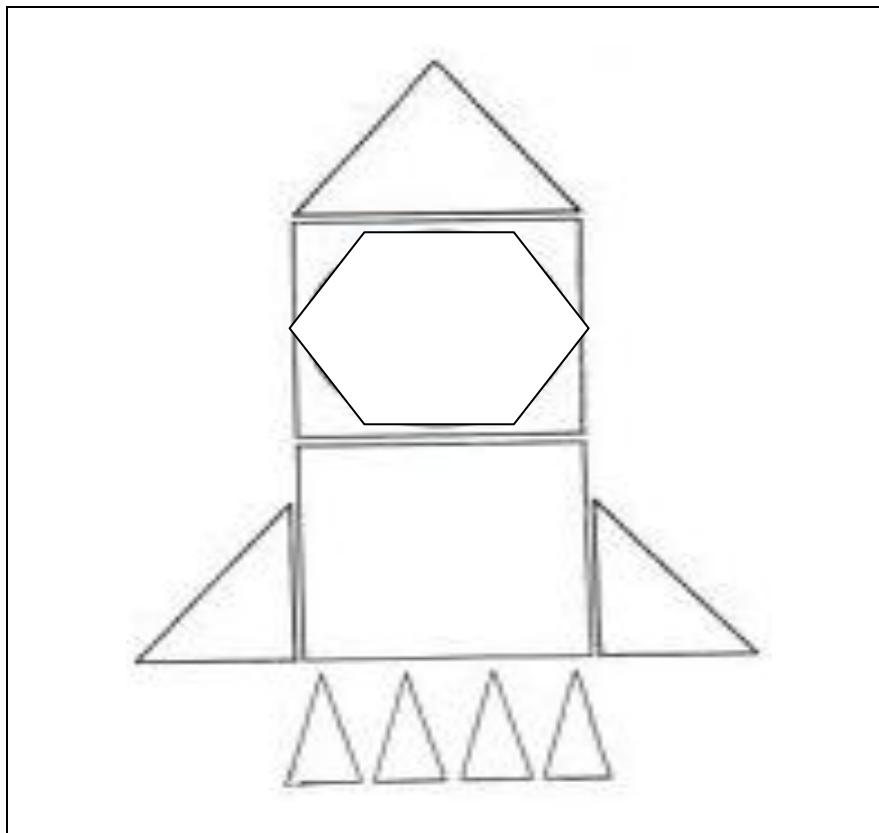
C) 5

D) 8

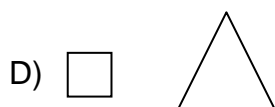
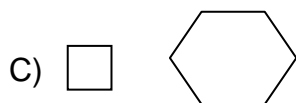
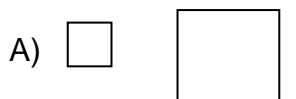


QUESTÃO 2

 Veja o foguete que Lucas construiu com diversas peças de figuras geométricas



 Faça um X no quadradinho da figura que tem três lados..





QUESTÃO 3



Smurf é um duende bastante curioso. Ele está sempre inventando brincadeiras com seus dados.



Smurf.

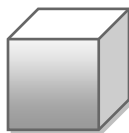


Faça um X no quadradinho da figura geométrica que tem a forma dos dados.

A)



B)



C)



D)

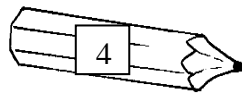
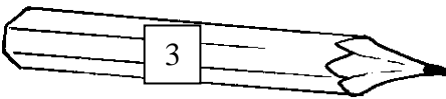
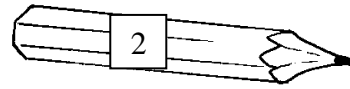
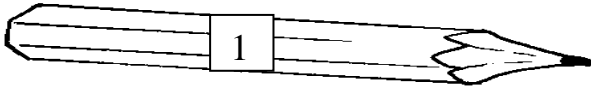




QUESTÃO 4



Veja os lápis de Isabela. O lápis que ela gosta de usar para escrever é o mais curto.



Faça um X no quadradinho que indica o número do lápis mais curto.

A) 4

B) 3

C) 2

D) 1



QUESTÃO 5



Gabriel ganhou uma cédula de cinco reais. Ele quer trocá-la por moedas para colocar em seu cofrinho.



Faça um X no quadradinho que representa o conjunto de moedas que tem o mesmo valor da cédula de Gabriel

A)



B)



C)



D)






QUESTÃO 6



Observe no relógio abaixo o horário que Paulo começou a trabalhar.



Qual relógio digital está marcando o mesmo horário que ele começou a trabalhar?

A) **8:00**

B) **8:12**

C) **12:00**


D) **12:08**



QUESTÃO 7



Veja os elefantes.



Faça um X no quadradinho que mostra o número de elefantes da figura.

A) 15

B) 9

C) 6

D) 5



QUESTÃO 8



Para o aniversário de Laura foram convidadas vinte e três crianças.
Faça um X no quadradinho que mostra o número de crianças convidadas.

A) 302

B) 203

C) 23

D) 13






QUESTÃO 9



Daniela preparou uma salada de frutas com: abacaxi, banana, maçã e morango.



Faça um X no quadradinho que indica a fruta que Daniela mais utilizou.

A)



B)



C)



D)

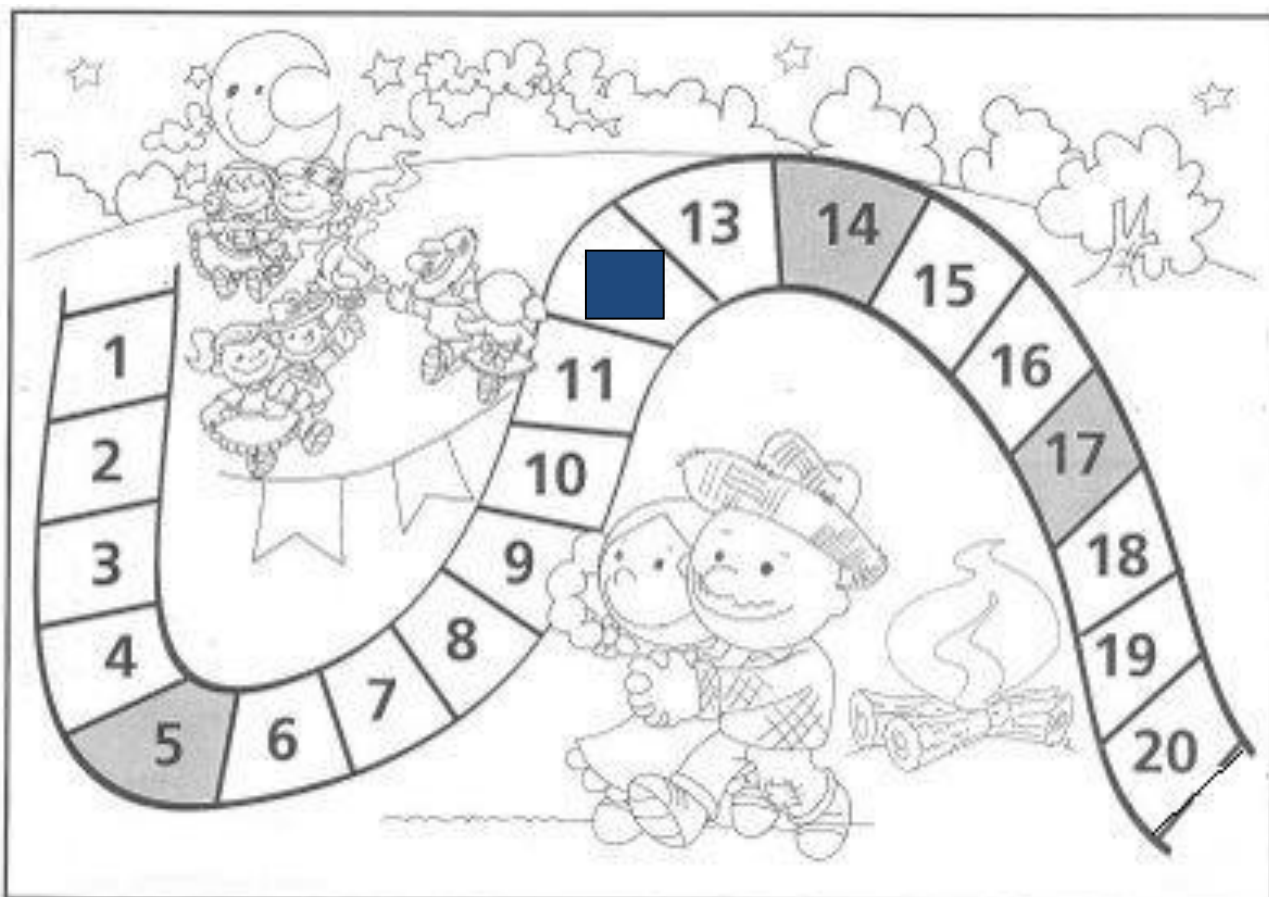




QUESTÃO 10



Na festa do Arraial da Alegria, Felipe e Bruna ganharam o concurso de casal mais animado. Eles conseguiram a pontuação que está coberta pelo quadradinho.



Faça um X no quadradinho do número que apresenta a pontuação conseguida pelo casal Felipe e Bruna.

A) 20

B) 13

C) 12

D) 10



QUESTÃO 11



Mariana tem cinco canetinhas coloridas e Luciana tem quatro.



Faça um X no quadradinho que mostra quantas canetinhas elas têm juntas.

A) 54

B) 9

C) 5

D) 4

QUESTÃO 12



Eduardo tem uma coleção de oito bonés. Ele vai dar dois para seu colega Roberto.

Faça um X no quadradinho do número de bonés que ainda ficarão com Eduardo.

A) 8

B) 7

C) 6

D) 2





QUESTÃO 13



Camila convidou sete coleguinhas para nadarem na piscina de sua casa. Já chegaram quatro coleguinhas.

Faça um X no quadradinho que indica quantos coleguinhas ainda faltam.

A) 7

B) 5

C) 4

D) 3



QUESTÃO 14



Camila tem 10 reais e Antônio tem 5 reais.


Faça um X no quadradinho que indica quantos reais Antônio ainda precisa para ter a mesma quantia que Camila.

A) 10 reais

B) 8 reais

C) 5 reais

D) 4 reais





QUESTÃO 15



Para a aula de Educação Física a professora Sandra organizou duas rodas com seis crianças em cada uma. Veja uma das rodas organizadas pela professora.



Faça um X no quadradinho que indica quantas crianças participarão da atividade de Educação Física no total das duas rodas.

A) 2

B) 6

C) 8

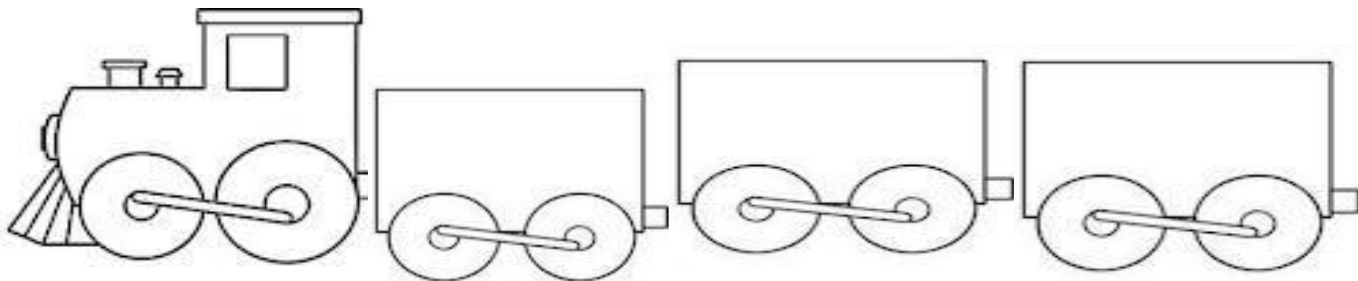
D) 12



QUESTÃO 16



Veja a locomotiva transportadora de animais. Ela transporta três cavalos em cada vagão.



Faça um X no quadradinho que indica quantos cavalos ao todo ela consegue transportar.

A) 9

B) 6

C) 3


A) 1



QUESTÃO 17



Veja a foto dos 10 gatinhos de Rosa. Ela precisa dividir igualmente os seus gatinhos em duas camas.



Faça um X no quadradinho que mostra quantos gatinhos ficarão em cada cama.

A) 2

B) 4

C) 5

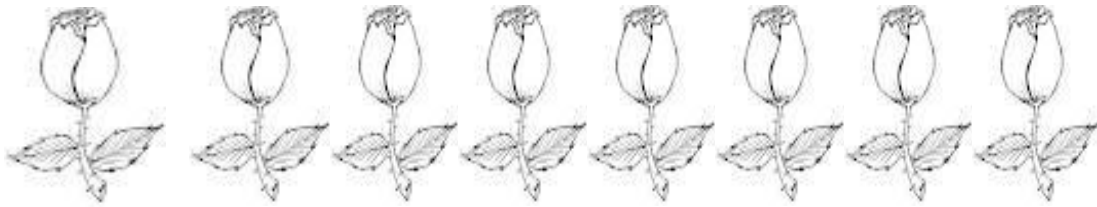
D) 10



QUESTÃO 18



Cátia comprou oito botões de rosas. Ela quer colocar quatro botões em cada jarra. Quantas jarras Cátia vai precisar?



Faça um X no quadradinho que mostra o número de jarras que Cátia vai precisar.

A) 1

B) 2

C) 4





D) 8



QUESTÃO 19



Veja os preços das fantasias de carnaval anunciados em uma loja.

Produto	Preço em reais
	25 reais
	35 reais
	32 reais
	18 reais



Faça um X no quadradinho que indica a fantasia que custou 35 reais.

A)



B)



C)



D)

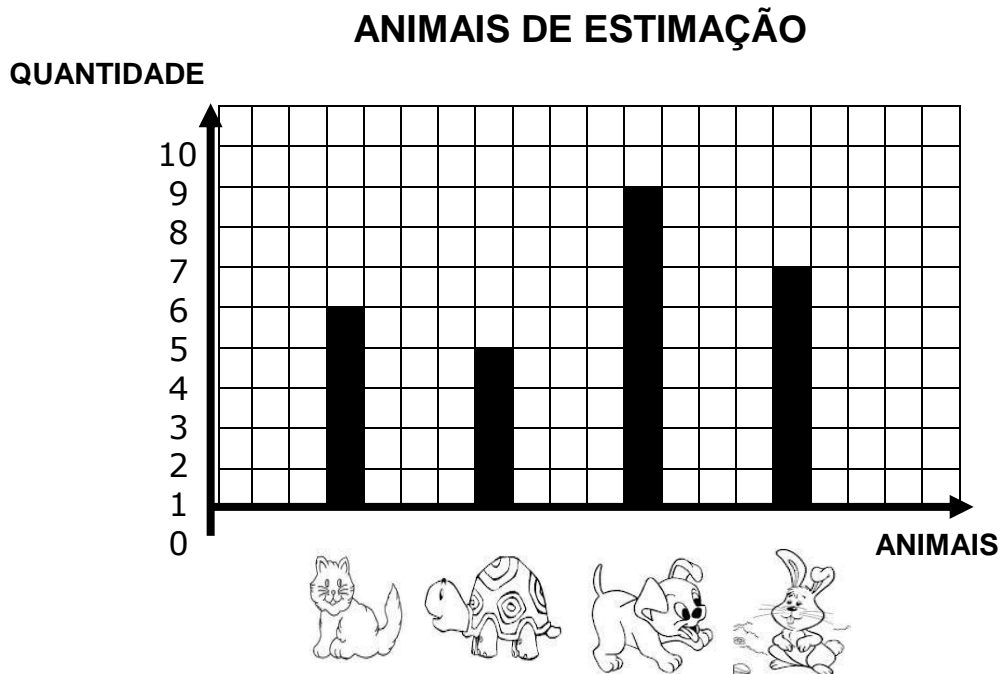




QUESTÃO 20



Veja o gráfico. Ele mostra uma pesquisa realizada com 23 crianças do 2º ano, sobre seus animais preferidos.



Faça um X no quadradinho que mostra o animal de maior preferência das crianças.

A)

B)

C)

D)



**SECRETARIA DE ESTADO DE EDUCAÇÃO DE MINAS GERAIS
SUBSECRETARIA DE DESENVOLVIMENTO DA EDUCAÇÃO BÁSICA
SUPERINTENDÊNCIA REGIONAL DE ENSINO DE PATROCÍNIO**