



SECRETARIA DE ESTADO DE EDUCAÇÃO DE MINAS GERAIS  
SUBSECRETARIA DE DESENVOLVIMENTO DA EDUCAÇÃO BÁSICA  
SUPERINTENDÊNCIA DE EDUCAÇÃO INFANTIL E FUNDAMENTAL  
DIRETORIA DE ENSINO FUNDAMENTAL  
SUPERINTENDÊNCIA REGIONAL DE ENSINO DE PATROCÍNIO



# AVALIAÇÃO DIAGNÓSTICA MATEMÁTICA – 1º ANO

Escola: \_\_\_\_\_

Professor(a): \_\_\_\_\_

Aluno: \_\_\_\_\_

Data de Nascimento: \_\_\_\_/\_\_\_\_/\_\_\_\_


2013






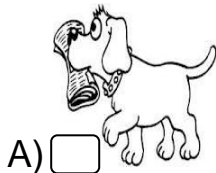
## QUESTÃO 1



Veja abaixo a representação do mural do quarto de João. Ele gosta do desenho que está mais distante do gato.



O desenho que ele mais gosta é

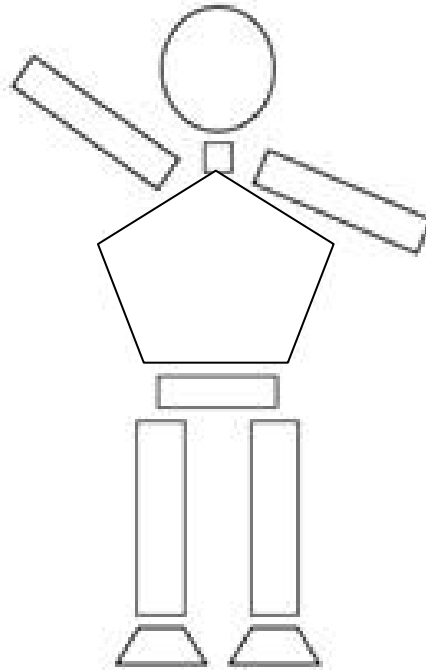




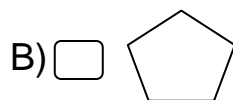
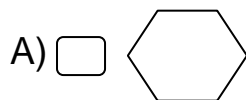
## QUESTÃO 2



Observe o boneco que Mariana desenhou com 10 figuras geométricas.



Marque o quadradinho que tem a mesma figura usada no corpo do boneco.






### QUESTÃO 3

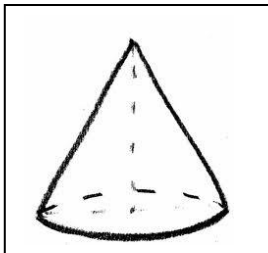


Veja o chapeuzinho do aniversário de Carlos.

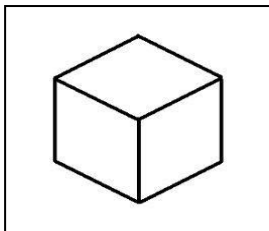


Qual das figuras abaixo tem a mesma forma do chapeuzinho?

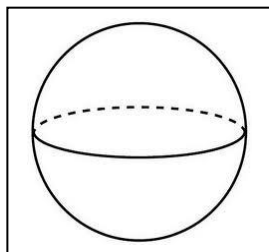
A)



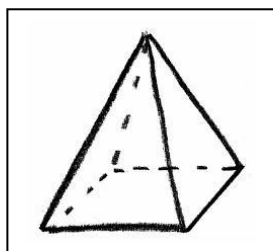
B)



C)



D)





## QUESTÃO 4




A foto abaixo mostra alguns animais do zoológico.




Faça um X no quadradinho que indica o animal mais alto.


A)




B)



C)



D)





## QUESTÃO 5



Marta ganhou algumas moedas do seu pai, que estão representadas abaixo.



Ela trocou as moedas em uma mercearia por uma única nota. Qual nota Marta recebeu nessa troca?

A)



B)



C)



D)






## QUESTÃO 6



No relógio de ponteiros, o ponteiro pequeno indica as horas e o grande os minutos. Observe o relógio abaixo.



Que horas o relógio está marcando?

A)  1 hora.

B)  3 horas.

C)  9 horas.

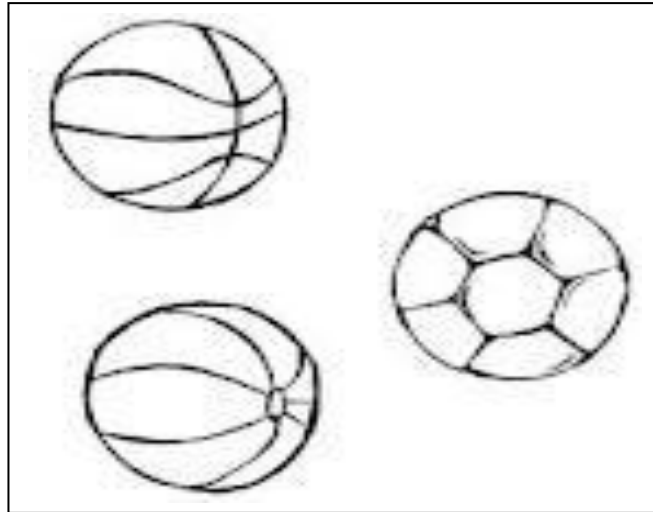
D)  12 horas



## QUESTÃO 7



Pedro tem uma coleção de bolas. Observe a coleção de Pedro no quadro abaixo.



Faça um X no quadradinho que mostra o número de bolas que tem na coleção de Pedro.

A)  2

B)  3

C)  4

D)  5

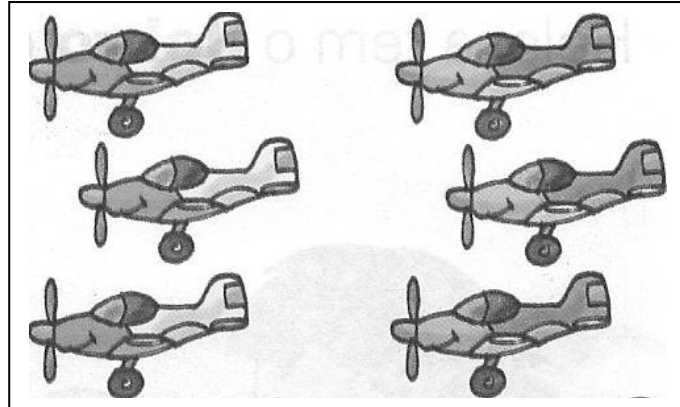




## QUESTÃO 8



Alex tem seis aviões de brinquedo.



Faça um X no quadradinho que mostra o número de aviões que Alex tem.

A)  606

B)  600

C)  60

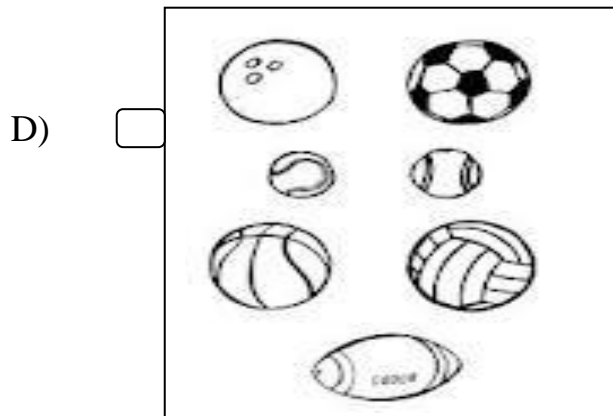
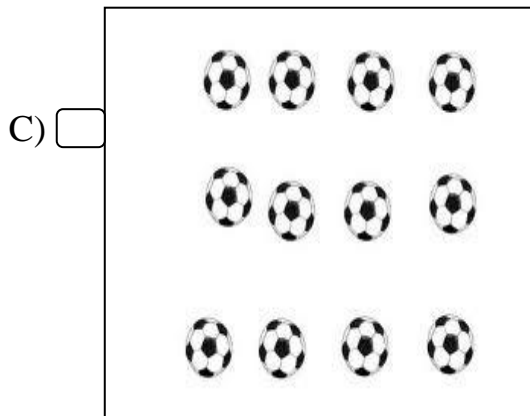
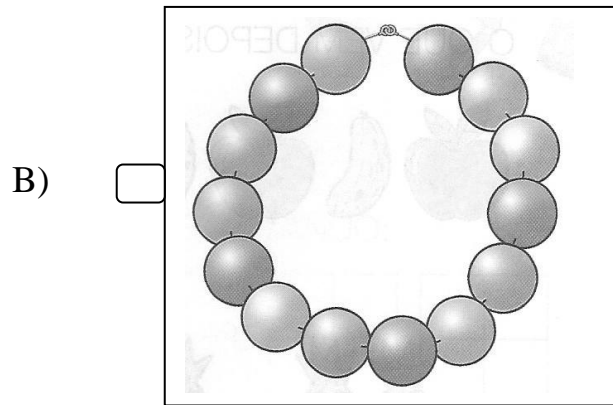
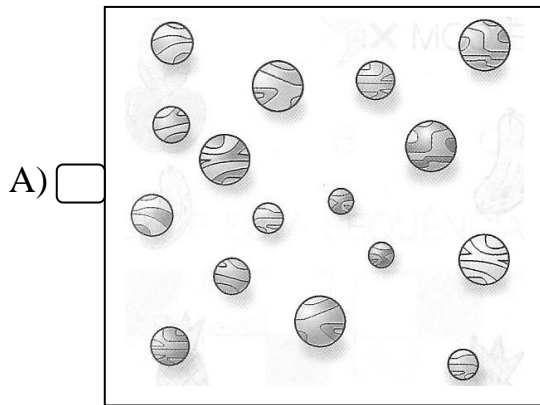
D)  6



## QUESTÃO 9



Faça um X no quadradinho que mostra o grupo que tem mais bolinhas.

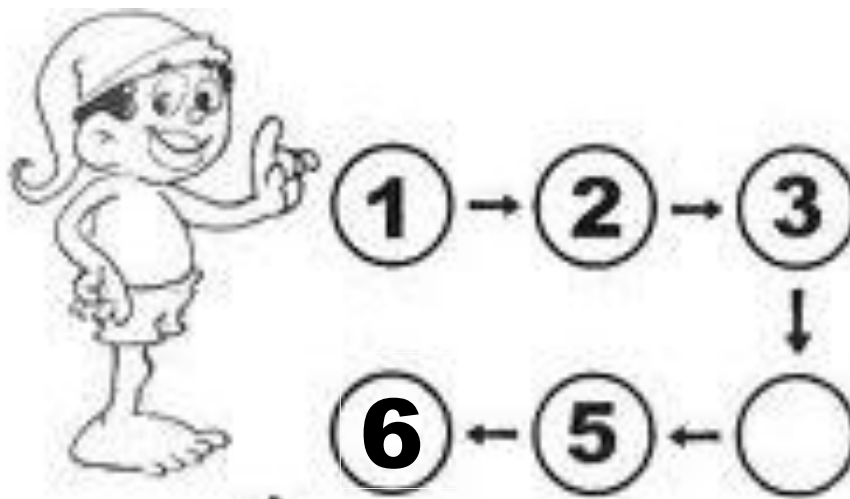




## QUESTÃO 10



Observe os numerais que o saci está lendo seguindo as setas.



Faça um X no quadradinho do número que está faltando.

A)  1

B)  3

C)  4

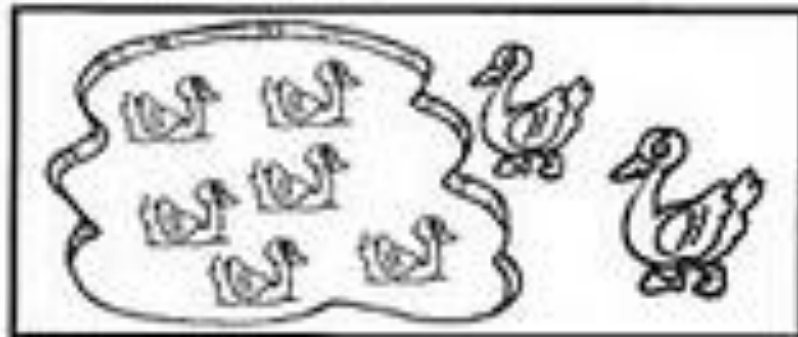
D)  6



## QUESTÃO 11



No sítio da vovó, havia seis patinhos. Vovô comprou mais dois.



Faça um X no quadradinho que mostra quantos patinhos tem no sítio da vovó agora.

A)  2

B)  4

C)  6

D)  8



## QUESTÃO 12



Ana tinha dois gatinhos. Um gatinho resolveu ir embora.



Faça um X no quadradinho que mostra com quantos gatinhos Ana ficará.

A)  1

B)  2

C)  3

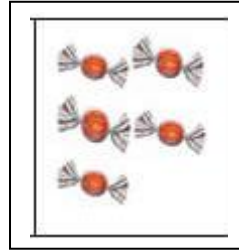
D)  4



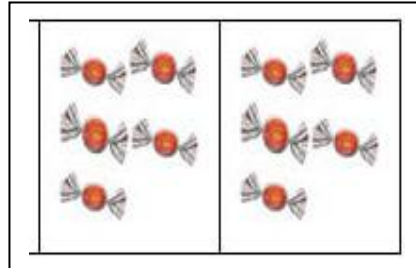
### QUESTÃO 13



Amanda tem cinco balas.



Beatriz tem o dobro dessa quantidade de balas.



Faça um X no quadradinho que indica quantas balas Beatriz tem.

A)  2

B)  3

C)  5


D)  10



## QUESTÃO 14



Beto quer distribuir seus seis peixes igualmente em dois aquários.



Faça um X no quadradinho que mostra quantos peixes ficarão em cada aquário.

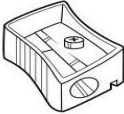


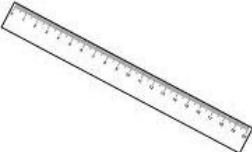
- A)  2
- B)  3
- C)  6
- D)  8



## QUESTÃO 15



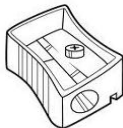
Veja os preços dos materiais escolares que a mãe de Gustavo comprou para ele.

Produto	Preço em reais
	3 reais
	5 reais
	1 real
	2 reais



Faça um X no quadradinho que indica o material escolar que custou 5 reais.

A)



B)



C)



D)

