

Escola: _____

Data: _____ Turma: _____

SOESCOLA.COM

Aluno: _____

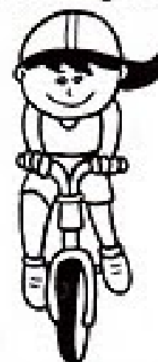
NUMERAÇÃO ORDINAL

1º	Primeiro	20º	Vigésimo	300º	Trecentésimo
2º	Segundo	30º	Trigésimo	400º	Quadringentésimo
3º	Terceiro	40º	Quadragesimo	500º	Quingentésimo
4º	Quarto	50º	Quinquagésimo	600º	Sexcentésimo
5º	Quinto	60º	Sexagésimo	700º	Setingentésimo
6º	Sexto	70º	Septuagésimo	800º	Octingentésimo
7º	Sétimo	80º	Octogésimo	821º	Octingentésimo vigésimo primeiro
8º	Oitavo	90º	Nonagésimo		
9º	Nono	96º	Nonagésimo sexto	900º	Nongentésimo ou noningentésimo
10º	Décimo	100º	Centésimo		
14º	Décimo quarto	200º	Ducentésimo	1000º	milésimo

Veja a classificação dos alunos da 4ª série no passeio ciclistico do Colégio Cristiano de Belo Horizonte.



Isabelle	-	8º	lugar
Gabriel	-	15º	lugar
Marina	-	38º	lugar
Lucas	-	53º	lugar
Aline	-	76º	lugar
Pedro	-	82º	lugar
Amanda	-	97º	lugar
Bruno	-	100º	lugar



Agora, escreva por extenso o lugar em que cada um se classificou na competição.

Escola: _____

Data: _____

Turma: _____

SOESCOLA.COM


Aluno: _____




NUMERAIS ORDINAIS

Para indicar ordem, posição ou lugar,
usamos os numerais ordinais.
Conheça os numerais ordinais até 10^o.

1 ^o → primeiro	6 ^o → sexto
2 ^o → segundo	7 ^o → sétimo
3 ^o → terceiro	8 ^o → oitavo
4 ^o → quarto	9 ^o → nono
5 ^o → quinto	10 ^o → décimo



- 1) Veja a posição das formiguinhas e continue a numerá-las segundo a ordem que ocupam.



- 2) Eu já liguei a 1ª formiga à 3ª. Continue ligando de acordo com o que se pede.
- a) A 5ª formiga à 7ª formiga.
 - b) A 7ª formiga à 9ª formiga.
- 3) Desenhe o que se pede nas formiguinhas:
- a) Uma folha na 6ª formiguinha;
 - b) Um chapéu na cabeça da 4ª formiguinha;
 - c) Um laço na cabeça da 9ª formiguinha.

Escola: _____

Data: _____

Turma: _____


SOESCOLA.COM

Aluno: _____

NÚMEROS ORDINAIS



Os números ordinais servem para indicar lugar, posição.



Observe a fila e responda:

- 1- O menino de bonê ocupa o _____ lugar na fila.
- 2- A menina de saia ocupa _____ lugar.
- 3- A mulher de sombrinha ocupa o _____ lugar.
- 4- O Sr. que está de terno e gravata ocupa _____ lugar.
- 5- O menino com carrinho ocupa o _____ lugar.
- 6- O dono do cachorro é o _____ da fila?
- 7- A moça de óculos ocupa o _____ lugar da fila.


Escola: _____

Data: _____ Turma: _____

SOESCOLA.COM

Aluno: _____

1) Observe os carros de corrida e marque um **X** nas respostas certas.




a) Qual a posição de largada do competidor brasileiro?

1º lugar 2º lugar 3º lugar 4º lugar

2) Qual é o carro que está em último lugar?

8º 10º 9º

3) Escreva em numerais ordinais a posição das crianças que estão na fila para o cinema.



a) Circule a criança que está em 5º lugar.

b) Pinte a criança que está em 2º lugar.

Escola: _____


Data: _____ Turma: _____

SOESCOLA.COM

Aluno: _____

QUAL É O ORDINAL?

① Identifique, com o numeral ordinal, a posição em que a figura se encontra na seqüência abaixo. Observe o modelo.



A) O sino é o **6º**.

D) O navio é o .

B) O é o foguete.

E) O é o coelhinho.

C) O é o boné.

F) O é o vaso.

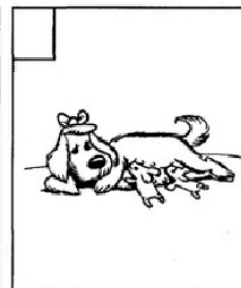
② Continue escrevendo em palavras.

Primeiro, _____, _____,

_____, sexto, _____,

_____, _____, _____.

③ Observe as cenas e numere-as com os numerais ordinais, de acordo com a seqüência dos acontecimentos.



Escola: _____

Data: _____ Turma: _____

SOESCOLA.COM

Aluno: _____


1- Descubra o nome de cada criança seguindo as pistas.

Em uma prova de atletismo Lucas chegou em 3º lugar e Pedro chegou 2 posições depois.

Guga foi o 7º colocado e Luís chegou 5 posições antes.

Carlos chegou em último lugar e Samuel chegou 2 posições antes.

Rodrigo foi o grande vencedor e Paulo chegou 3 posições depois.



2- Represente os ordinais com algarismos:

Décimo primeiro _____ Décimo quinto _____ Trigéssimo sexto _____

Vigéssimo quarto _____ Vigéssimo oitavo _____ Trigéssimo nono _____

3- Escreva o antecessor e o sucessor dos números ordinais abaixo:

____ 10º ____ ____ 16º ____ ____ 24º ____ ____ 36º ____

____ 40º ____ ____ 20º ____ ____ 7º ____ ____ 15º ____

____ 42º ____ ____ 46º ____ ____ 12º ____ ____ 39º ____

Escola: _____

Data: _____ Turma: _____

SOESCOLA.COM

Aluno: _____

Atividades:

1) Qual é a 18ª letra do nosso alfabeto?

2) Qual é o 5º mês do ano?

3) Qual é o 2º dia da semana?


4) Qual a 3ª letra do seu nome?

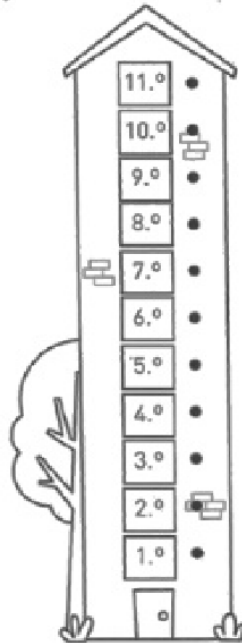
Escola: _____

Data: _____ Turma: _____

SOESCOLA.COM

Aluno: _____

 *Liga os números ordinais à sua representação em português.*



- primeiro
- quinto
- quarto
- segundo
- terceiro
- décimo
- oitavo
- sexto
- sétimo
- nono
- décimo primeiro

• Observa a figura e responde.



- a) Qual é a letra do pássaro que vai em primeiro lugar?
- b) Qual é a letra do pássaro que vai em terceiro lugar?
- c) Qual é a letra do pássaro que vai em último lugar?
- d) O último pássaro vai em _____ lugar.