

Escola: _____

Data: _____ Turma: _____

SOESCOLA.COM

Aluno: _____

1- ESCREVA COM ALGARISMOS

DUAS DEZENAS _____

TRÊS DEZENAS E QUATRO UNIDADES _____

DUAS DEZENAS E CINCO UNIDADES _____

2- DECOMPONHA OS NÚMEROS SEGUINDO O EXEMPLO.

14 = 10 + 4 UMA DEZENA E QUATRO UNIDADES

17 = ____ + ____

28 = ____ + ____

41 = ____ + ____

25 = ____ + ____

15 = ____ + ____

32 = ____ + ____

48 = ____ + ____

3- COMPLETE

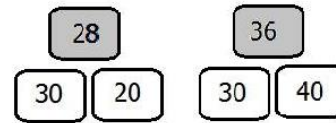
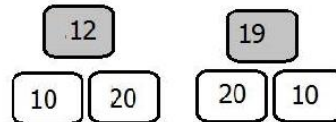
18 ESTÁ ENTRE ____ E ____

21 ESTÁ ENTRE ____ E ____

30 ESTÁ ENTRE ____ E ____

43 ESTÁ ENTRE ____ E ____

4- PINTE A DEZENA MAIS PRÓXIMA



Escola: _____


Data: _____ Turma: _____

SOESCOLA.COM

Aluno: _____

ATIVIDADE DE MATEMÁTICA _____ 3º ANO
CANTINHO FUNDAMENTAL @GENTEQUEAXIAMAALFABETIZAR

ESCREVA OS NÚMEROS EM ORDEM CRESCENTE



LIGUE A PALAVRA QUE COMPLETA CORRETAMENTE A FRASE.

- a) 25 É MAIOR MENOR QUE 32
- b) 47 É MAIOR MENOR QUE 54
- c) 63 É MAIOR MENOR QUE 85
- d) 54 É MAIOR MENOR QUE 45
- e) 37 É MAIOR MENOR QUE 73
- f) 43 É MAIOR MENOR QUE 34

ESCREVA OS SEGUINTE NÚMEROS:

MAIORES QUE 35 E MENORES QUE 42

MAIORES QUE 43 E MENORES QUE 50

MAIORES QUE 52 E MENORES QUE 59

Escola: _____

Data: _____ Turma: _____

SOESCOLA.COM

Aluno: _____

Observe os números do retângulo.

A	B	C	D	E	F	G	H
257	143	300	305	134	275	350	341

Copie o maior e o menor. Maior Menor

Escreva por extenso o número que corresponde a duas centenas, sete dezenas e cinco unidades.

Escreva os números em ordem crescente.

Descubra qual o número e pinte de vermelho.

O algarismo das dezenas é 5 É o número

O algarismo das centenas é 2

O algarismo das unidades é 7

Calcule :

A+C= D+H= G+B= H+E=

C-E= F-B= D-A= G-F=

Escola: _____

Data: _____ Turma: _____

SOESCOLA.COM

Aluno: _____

1- Observe o exemplo e complete a tabela.

125	$100+20+5$	1 centena 2 dezenas e 5 unidades
	$200+30+8$	
		5 centenas 4 dezenas e 6 unidades
472		
	$300+70+7$	
		4 centenas 2 dezenas e 5 unidades
524		

2- Calcule e pinte as fichas cujo resultado igual a 2 centenas.

$100+70+30$	$120+70+5$	$180+20+3$	$130+50+20$	$125+60+15$
-------------	------------	------------	-------------	-------------

3- Calcule e pinte as fichas cujo resultado igual a 3 centenas.

$150+100+50$	$200+50+30$	$180+100+20$	$160+40+80$	$170+35+90$
--------------	-------------	--------------	-------------	-------------